

Tema 8
POBLAMIENTO URBANO y RURAL

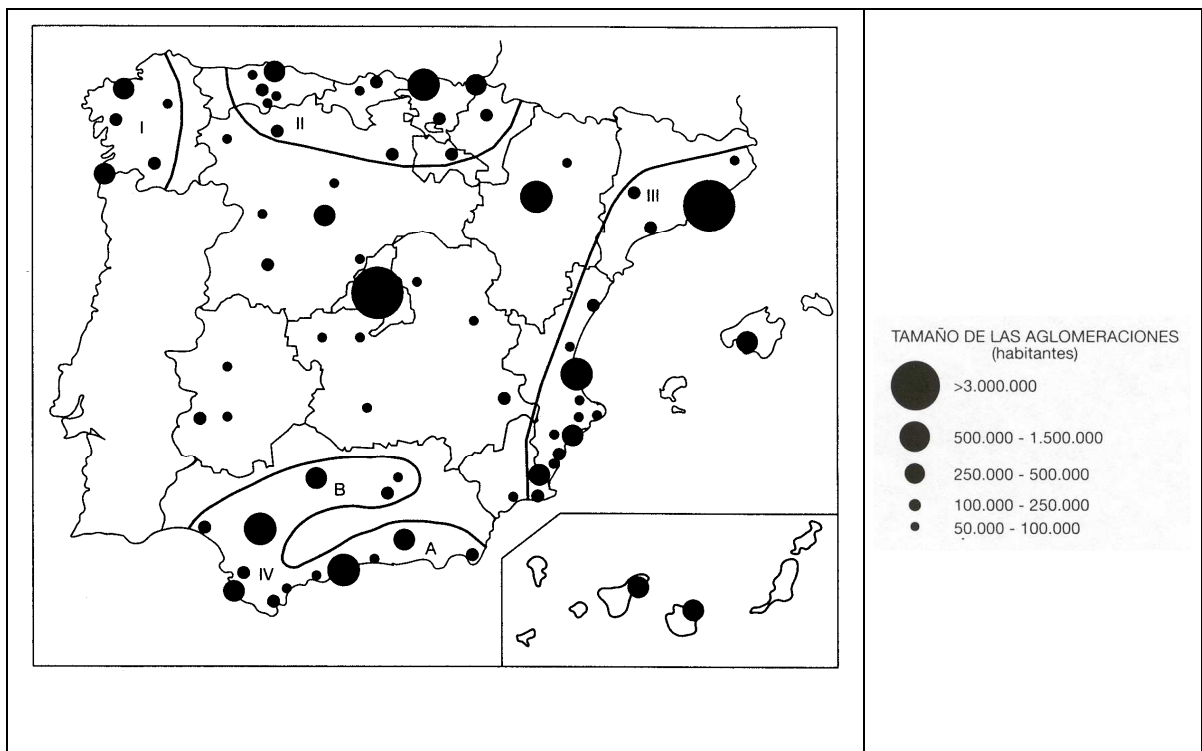
ACTIVIDADES PRÁCTICAS DE EXÁMENES DE SELECTIVIDAD (Pregunta 2ª)

**PRÁCTICA nº 01
 PREGUNTA 2 DEL EXAMEN DE 2001**

El mapa siguiente muestra la red de ciudades en España, en 1991. Analícelo y responda a las preguntas siguientes:

- a) Diga qué ciudades sobrepasan los 500.000 habitantes.
- b) Los ejes urbanos señalados con I, II, III y IV, a qué áreas territoriales se refieren.
- c) ¿Qué contrastes existen en la red urbana de España entre el centro y la periferia?. Explique las causas.

(Valoración: hasta 3 puntos)

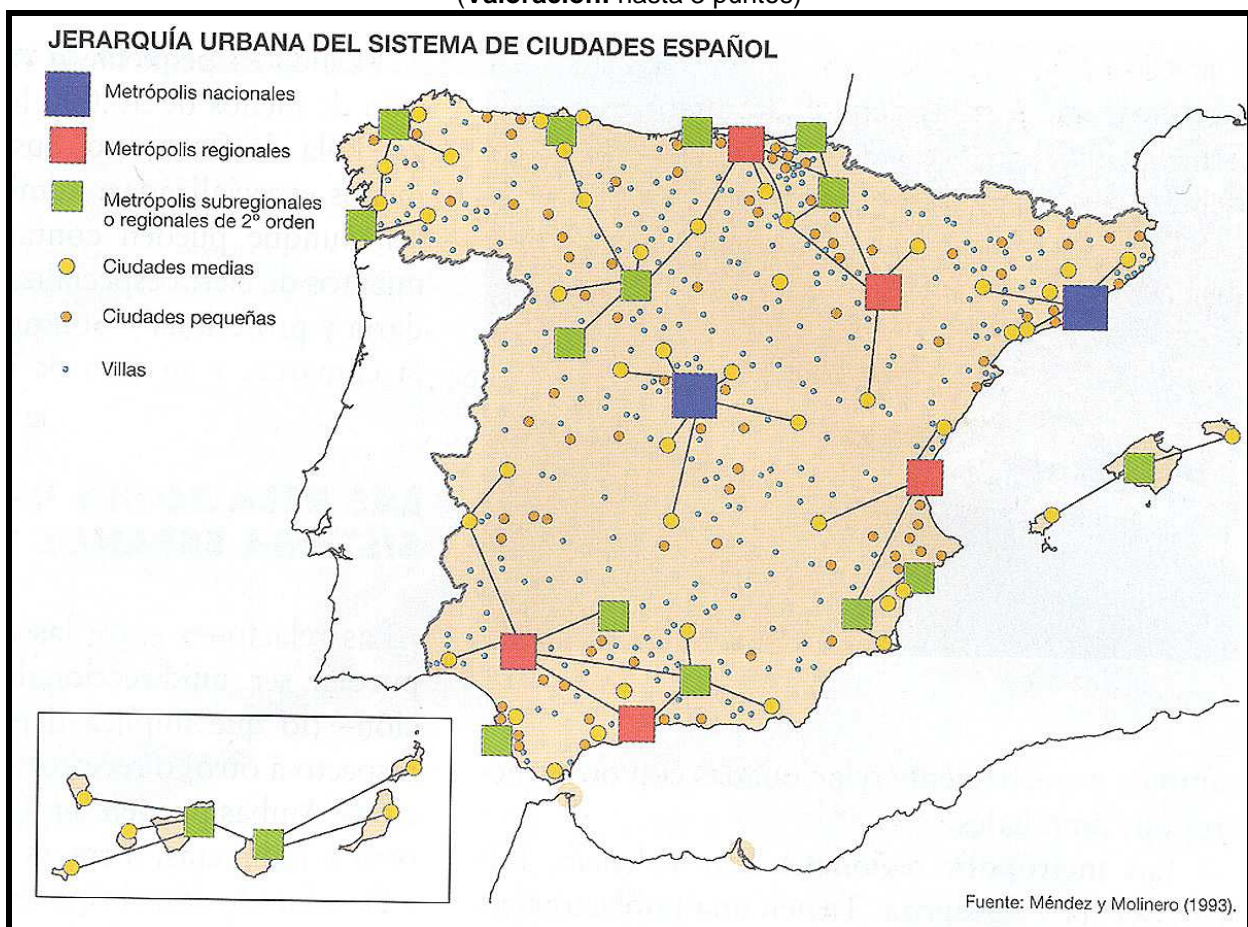


PRÁCTICA nº 02
PREGUNTA 2 DEL EXAMEN DE 2002, 2006

El mapa siguiente muestra el sistema de ciudades en España, en 1991. Analícelo y responda a las preguntas siguientes:

- a) Diga el nombre de las ciudades que son metrópolis nacionales y el de las metrópolis regionales.
- b) ¿Qué contrastes existen en la red urbana de España entre el centro y la periferia?
- c) Explique las causas y consecuencias de esta configuración del sistema urbano español.

(Valoración: hasta 3 puntos)

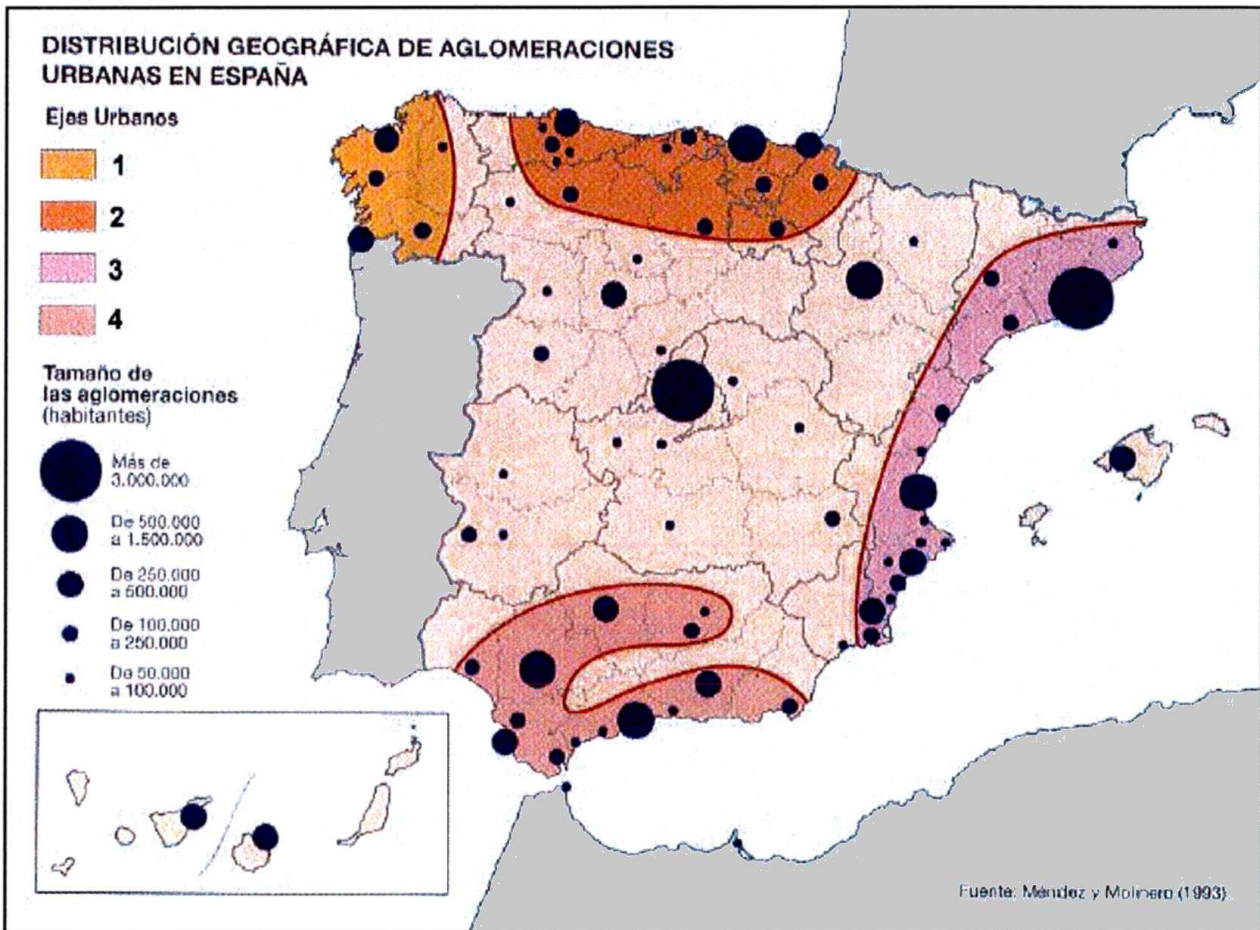


PRÁCTICA nº 03
PREGUNTA 2 DEL EXAMEN DE 2003, 2004, 2008, 2009, 2011

El mapa representa la distribución geográfica de las aglomeraciones urbanas en España.

Analícelo y responda a las siguientes preguntas:

- a) Diga el nombre de las ciudades que tienen más de 500.000 habitantes.
- b) ¿Cómo llamaría usted al eje urbano número 3?. Diga el nombre de las Comunidades Autónomas afectadas por dicho eje urbano.
- c) Explique los condicionantes geográficos que favorecen la bifurcación en dos ramas del eje urbano andaluz.



PRÁCTICA nº 04 PREGUNTA 2 DEL EXAMEN DE 2003

La figura siguiente es un fotoplano de la ciudad de Pamplona.
Analícelo y conteste a las preguntas siguientes:

- Identifique, mediante el correspondiente **número** (o **números**)* las siguientes unidades: *Alcázar, centro histórico y ensanches*.
- Defina el tipo de plano de las unidades morfológicas correspondientes a los **números*** 5, 2, 3 y 4.
- Explique los factores del emplazamiento de la ciudad de Pamplona, en relación con el medio natural.

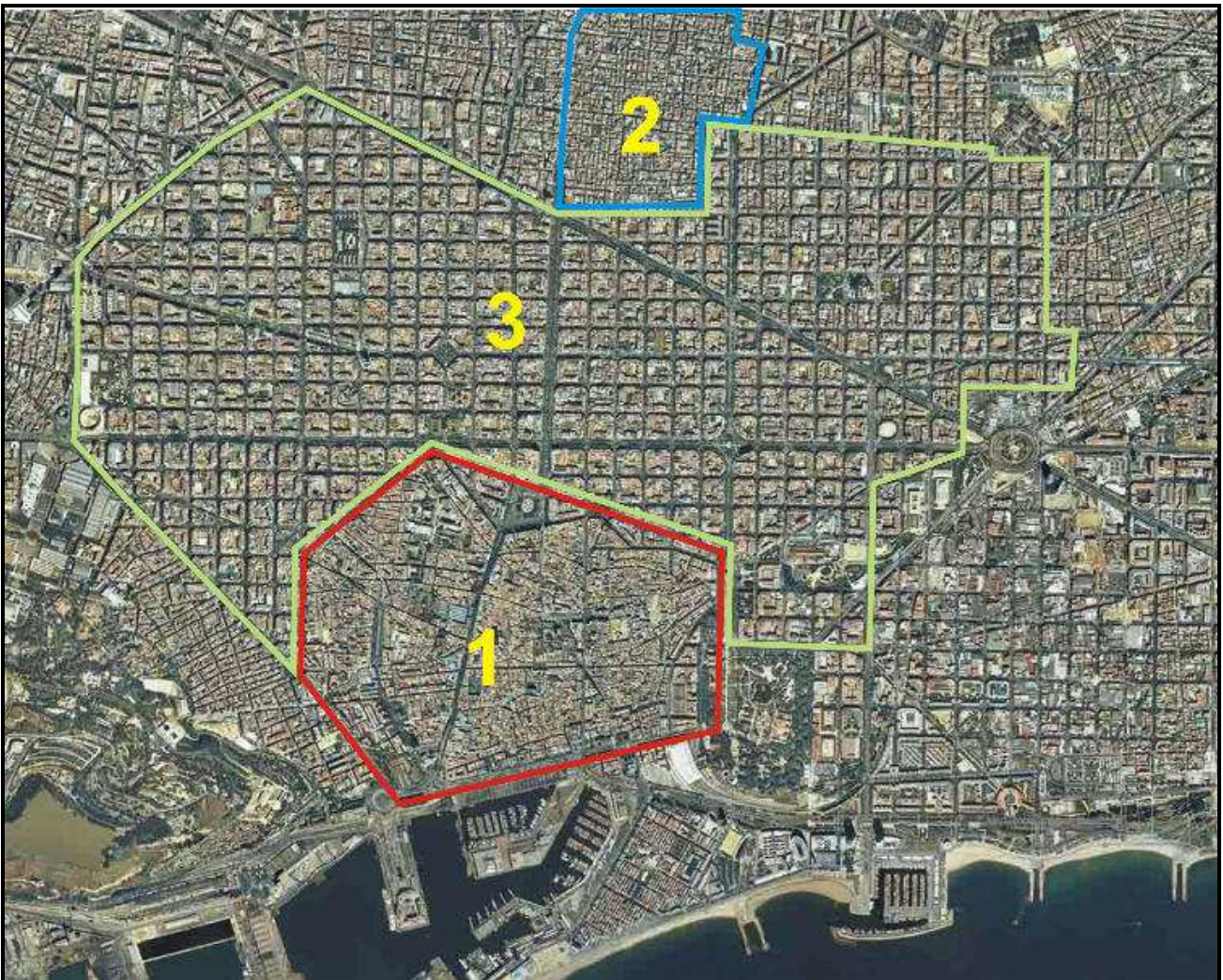
(* Los **números** aparecen **en rojo**, del 1 al 7, sobre el fotoplano.



PRÁCTICA nº 05
PREGUNTA 2 DEL EXAMEN DE 2004, 2008, 2009, 2010, 2011 y 2014

La figura siguiente es un fotoplano de la ciudad de Barcelona.
Con la información que contiene conteste a la preguntas siguientes:

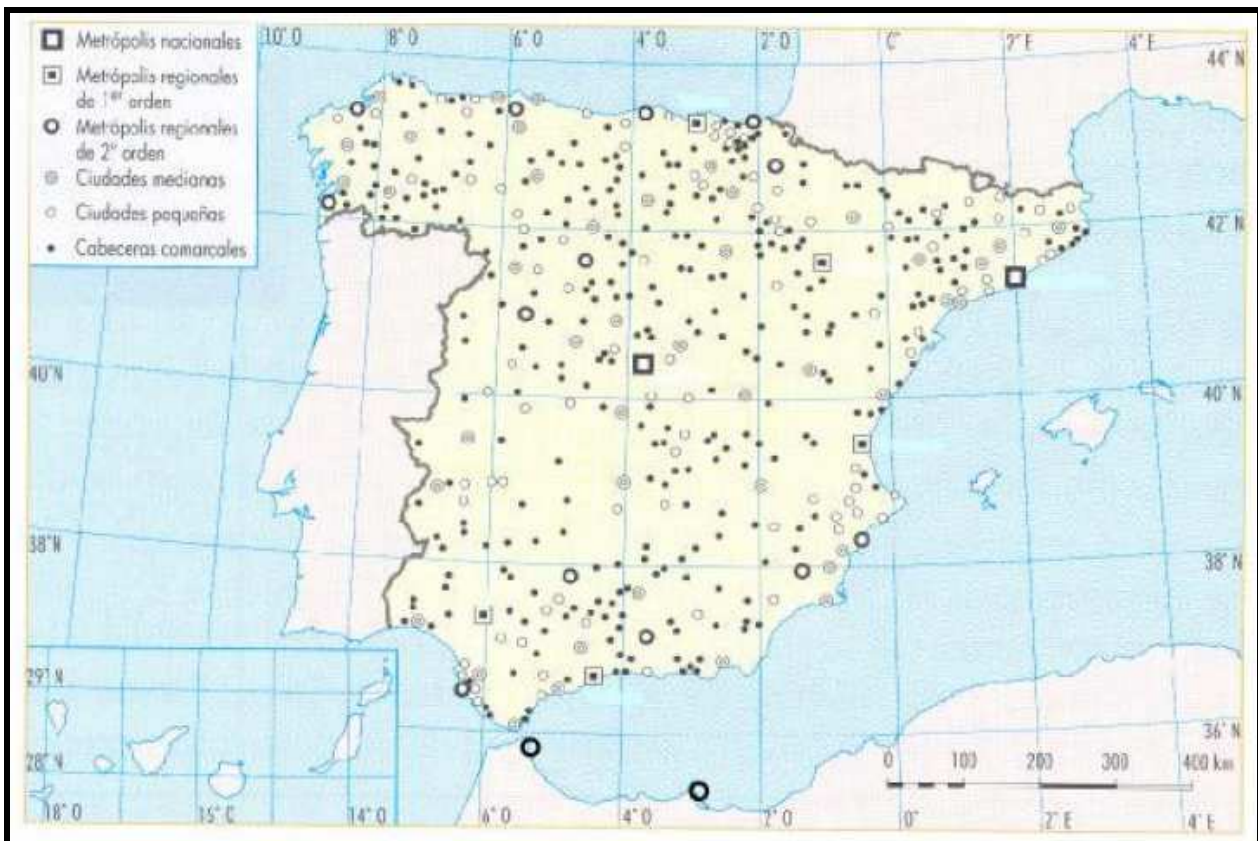
- Identifique, mediante el correspondiente número las siguientes unidades: Centro Histórico, Ensanche, Periferia y Alcazar, y sus tipos de plano.
- Defina el tipo de plano de las unidades morfológicas correspondientes a los números 1, 2 y 3. Razone las respuestas.
- Explique los factores del emplazamiento de la ciudad del Barcelona.



PRÁCTICA nº 06
PREGUNTA 2 DEL EXAMEN DE 2005, 2007

**El mapa muestra el sistema de ciudades de España.
Obsérvelo y responda a las siguientes cuestiones:**

- Dé los nombres de las metrópolis nacionales; y de las metrópolis regionales de 1º orden. Diga a qué Comunidad Autónoma pertenece cada una.
- ¿Por qué se establecen las categorías que aparecen en la leyenda del mapa, qué diferencias básicas existe entre cada una de ellas, o sobre qué bases principales se hacen esas jerarquías urbanas?.
- Explique brevemente el funcionamiento del sistema urbano de Andalucía nombrando al menos las ciudades que pertenecen a las cuatro categorías primeras.



PRÁCTICA nº 07
PREGUNTA 2 DEL EXAMEN DE 2005, 2006 y 2013

La figura siguiente es un plano de la ciudad de Barcelona. Obsérvelo y conteste a las preguntas siguientes:

- a) Identifique, mediante el correspondiente número (o números) las siguientes unidades: centro histórico, ensanche, puerto, diagonal.
- b) Defina el tipo de plano de las unidades morfológicas correspondientes a los números 1, 3 y 4, y diga qué peculiaridades tiene el ensanche y quién es su autor principal.
- c) Explique los factores de la localización de la ciudad de Barcelona, en relación con el medio natural.



PRÁCTICA nº 08
PREGUNTA 2 DEL EXAMEN DE

2.- La figura siguiente es un fotoplano de la ciudad de Pamplona. Analícelo y conteste a las cuestiones siguientes:

- a) Identifique y relaciones las áreas 1, 2 y 3 con “El casco histórico”, “El ensanche burgués” o “Barrios Residenciales Obreros”. Razone su respuesta.
Describa el origen y evolución de alguna de estas tres zonas (de forma general, no necesariamente concretada en Pamplona)
- b) Encadre y clasifique a Pamplona en la jerarquía de ciudades españolas y en algún eje urbano peninsular. Nombre los otros ejes urbanos peninsulares importantes.
- c) Explique el concepto y los distintos tipos de las funciones de las ciudades españolas.
- d) Usando el criterio cualitativo, explique cada una de las cualidades que definen y caracterizan a un espacio urbano.

(Valoración: a)=1; b)=1; c)=1; d):1 puntos)

