

Tema 7

LA POBLACIÓN ESPAÑOLA

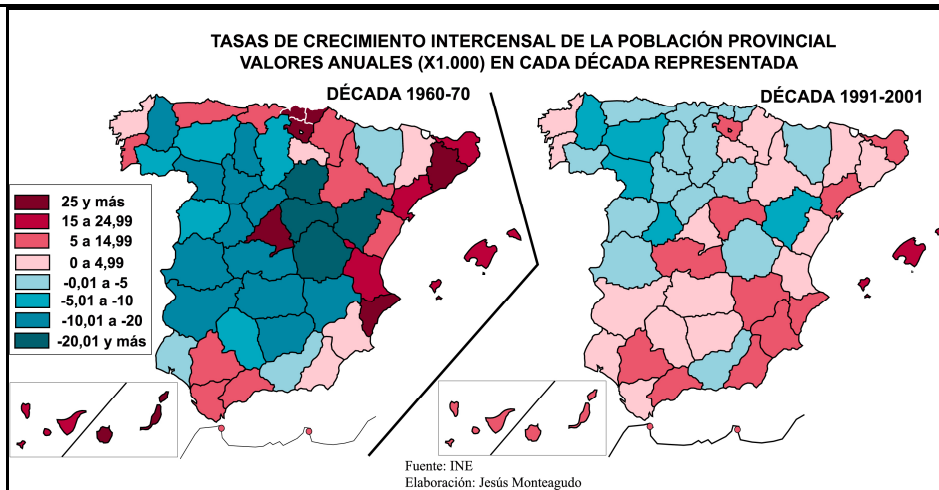
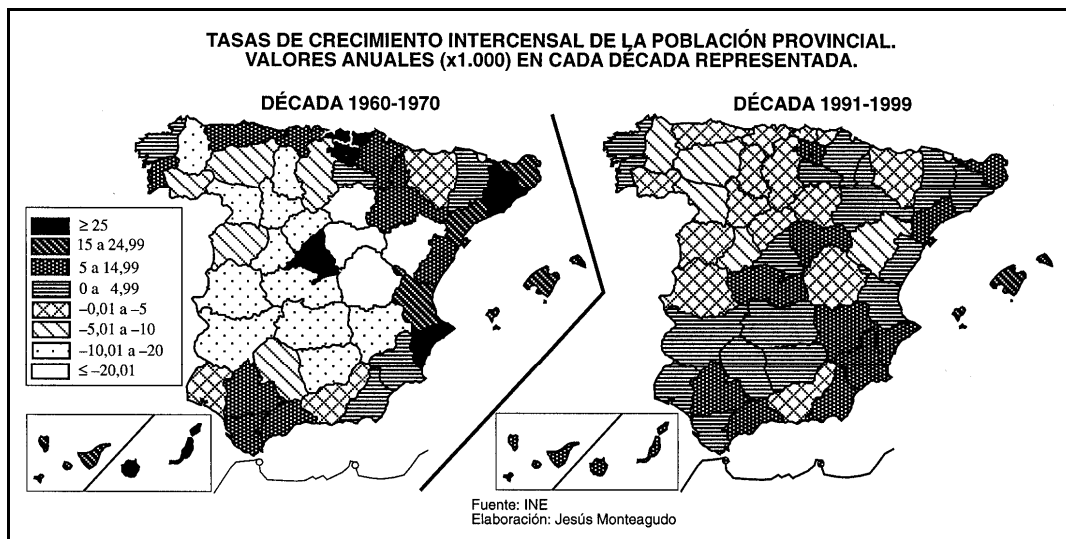
ACTIVIDADES PRÁCTICAS DE EXÁMENES DE SELECTIVIDAD (Pregunta 2ª)

PRÁCTICA nº 01 PREGUNTA 2 DEL EXAMEN DE 2001, 2002, 2004

Analice los mapas que siguen y responda a las siguientes cuestiones

- En la década de 1960-70 ¿qué provincias tienen un incremento demográfico superior al 25 % anual y cuáles entre el 15 y 24,99 %?. Enumérelas diferenciando cada grupo.
- Explique las causas principales por las que se producen los resultados que muestra el mapa de 1960-70.
- Compare los dos mapas y explique las causas principales por las que el comportamiento demográfico es tan diferente en ambos períodos.

(Valoración: hasta 3 puntos)

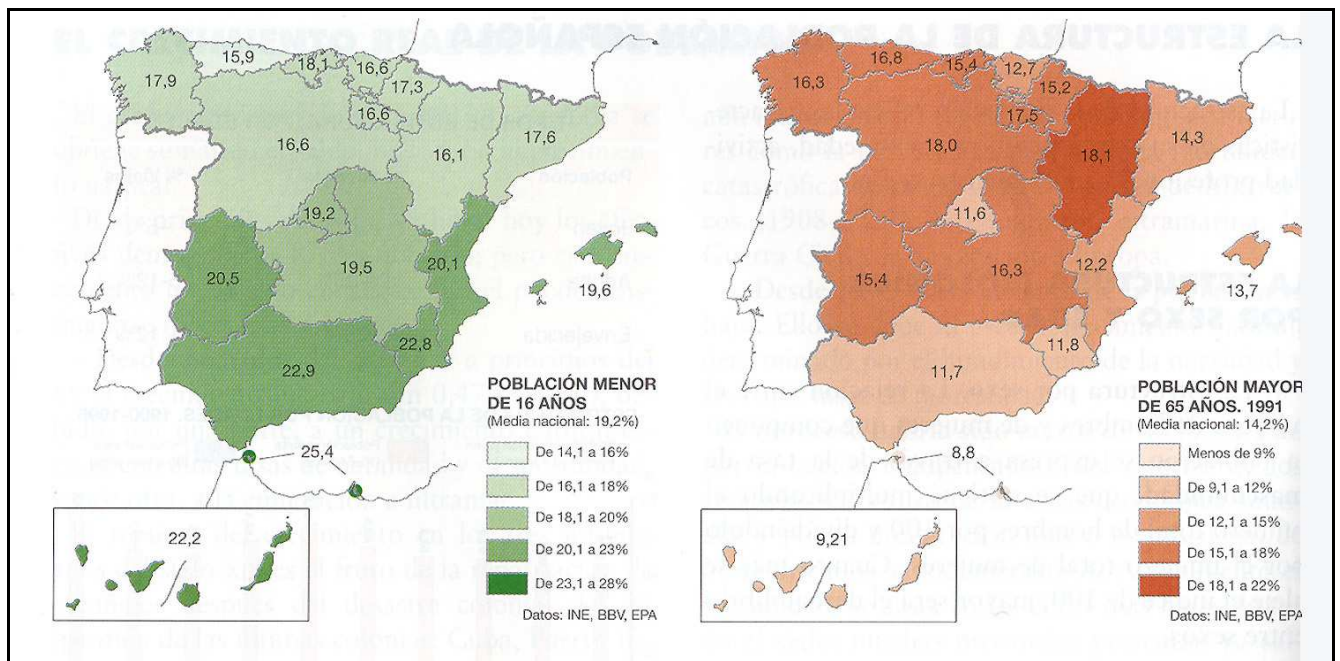


PRÁCTICA nº 02
PREGUNTA 2 DEL EXAMEN DE 2002

Los mapas representan la estructura de la población menor de 16 años y mayor de 65 años en 1991.

Analice los mapas y responda a las siguientes preguntas:

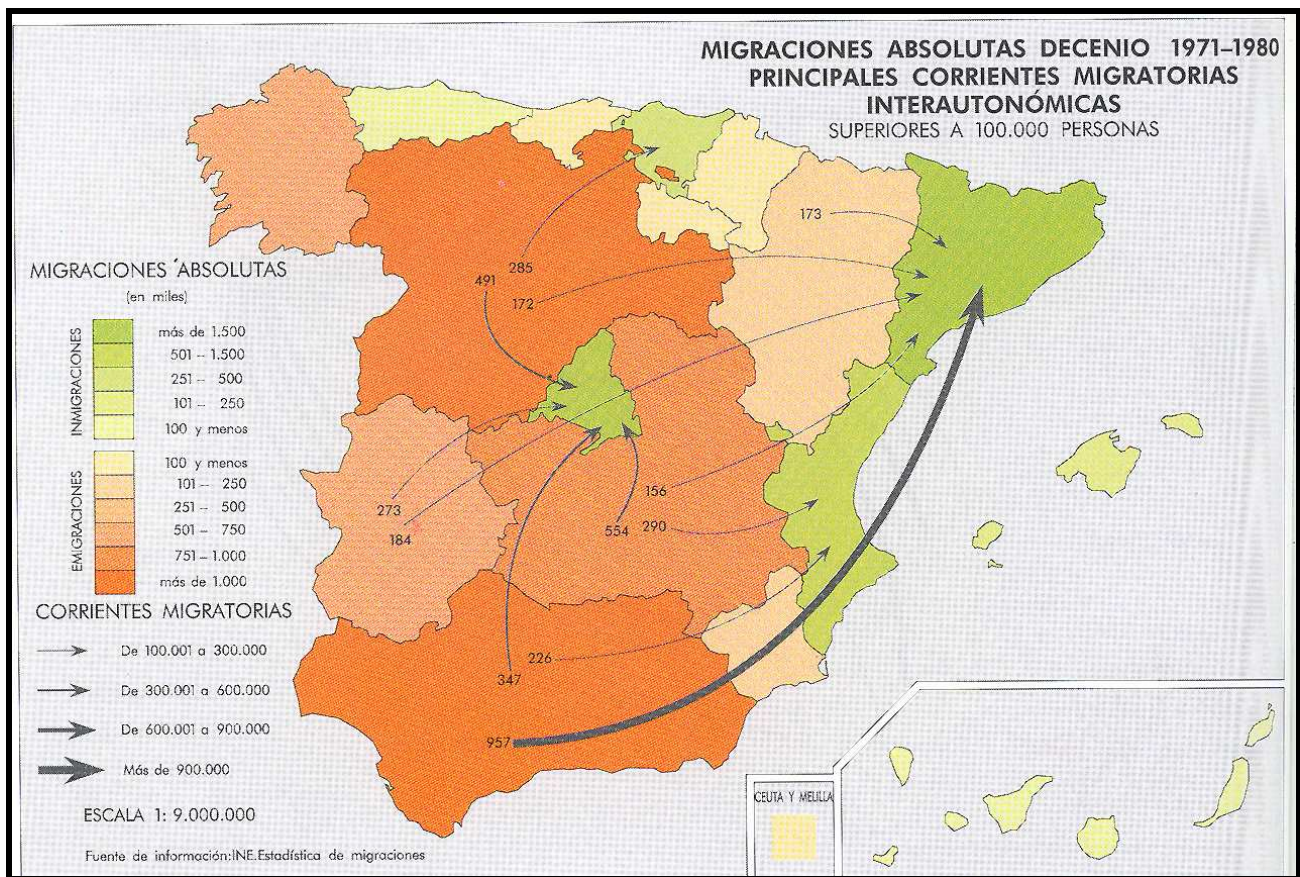
- a) Nombre todas las Comunidades Autónomas que tienen una “población menor de 16 años” superior al 20%, y las que tienen una “población mayor de 65 años” superior al 15%.
- b) Señale las causas de esta distribución estructural y territorial de la población española.
- c) ¿Qué consecuencias tiene esta estructura en la sociedad y en la economía de las regiones afectadas por uno u otro caso?.



PRÁCTICA nº 03
PREGUNTA 2 DEL EXAMEN DE 2002, 2003, 2010

Analice el mapa de migraciones interiores en 1971-80 y responda a las siguientes cuestiones:

- a) En la década de 1971-80 ¿qué Comunidades Autónomas tienen valores emigratorios superiores a 101.000 personas?, ¿cuáles tienen valores inmigratorios superiores a 101.000 personas?
- b) Explique las causas principales por las que se producen los resultados que muestra el mapa de 1971-80.
- c) ¿Cambia sustancialmente la situación desde la década representada hasta la actualidad?. Explíquelo.

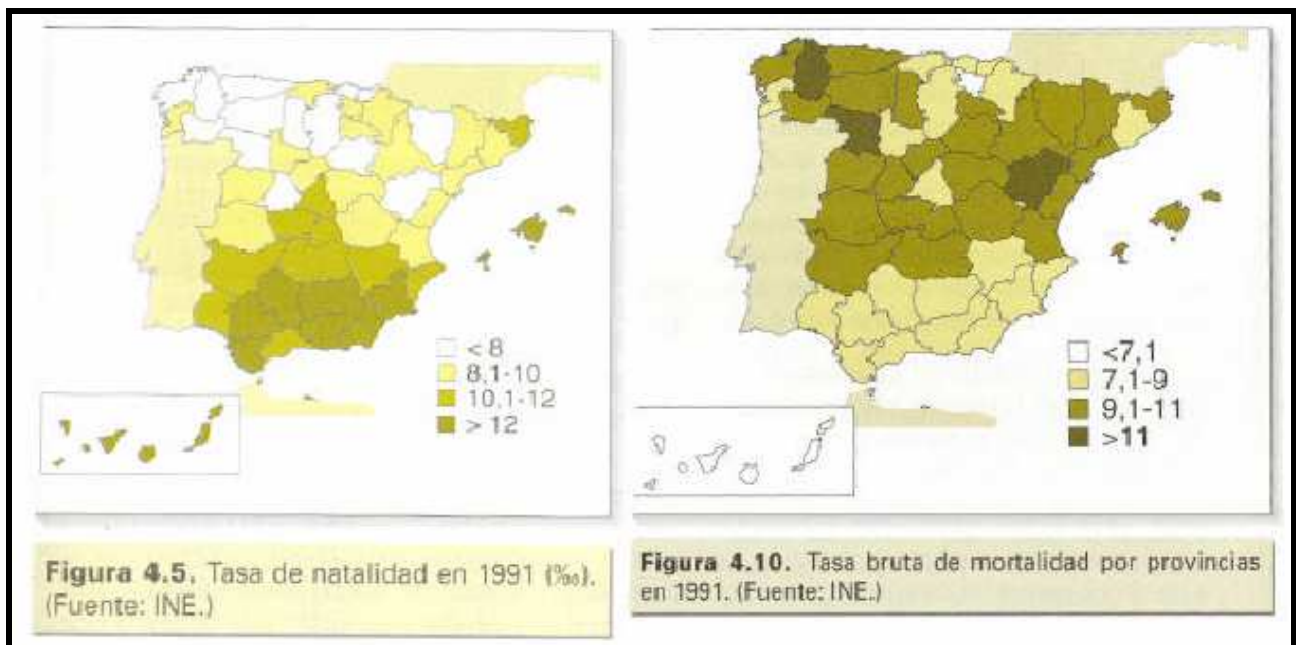


PRÁCTICA nº 04
PREGUNTA 2 DEL EXAMEN DE 2003

En la figura siguiente se pueden ver dos mapas que representan la distribución provincial de las tasas de natalidad y mortalidad brutas, en tantos por mil, en España, correspondientes al año 1991.

Analícelos y conteste a las siguientes preguntas:

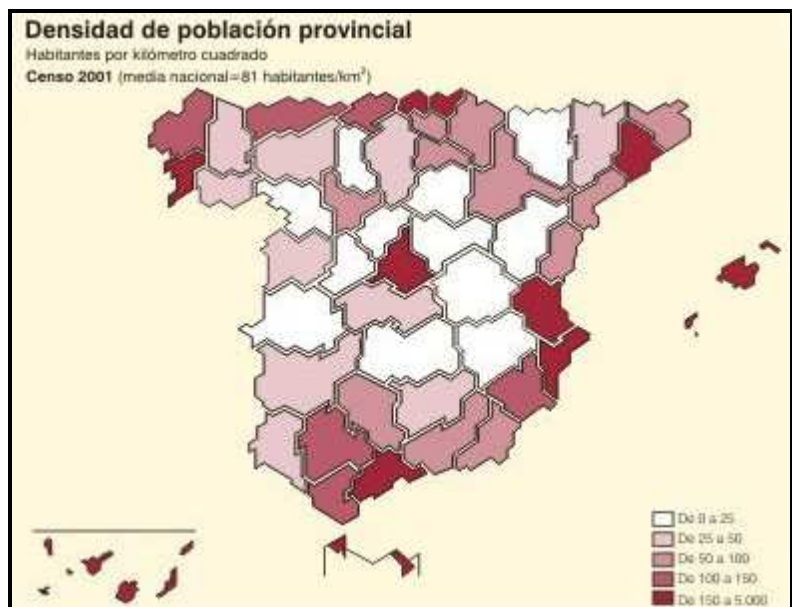
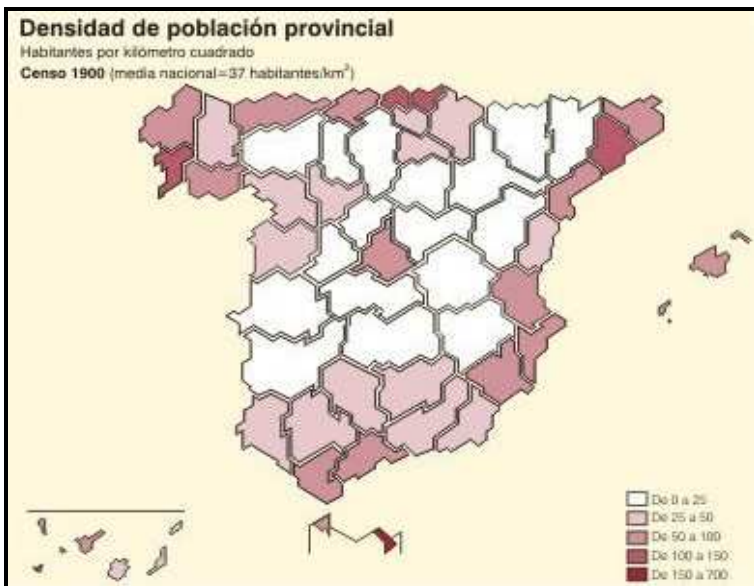
- Diga el nombre de las provincias que tienen tasas de natalidad superiores al 12 ‰ y de las provincias que tienen tasas de mortalidad superiores al 11 ‰.
- Diga qué Comunidad Autónoma tendrá mayor crecimiento natural de población: ¿Galicia o Andalucía?.
- Explique las posibles causas de esta situación.



PRÁCTICA nº 05
PREGUNTA 2 DEL EXAMEN DE 2003

En la figura siguiente se representan los mapas de densidades provinciales de población correspondientes a 1900 y 2001.
 Analícelos y responda a las siguientes preguntas:

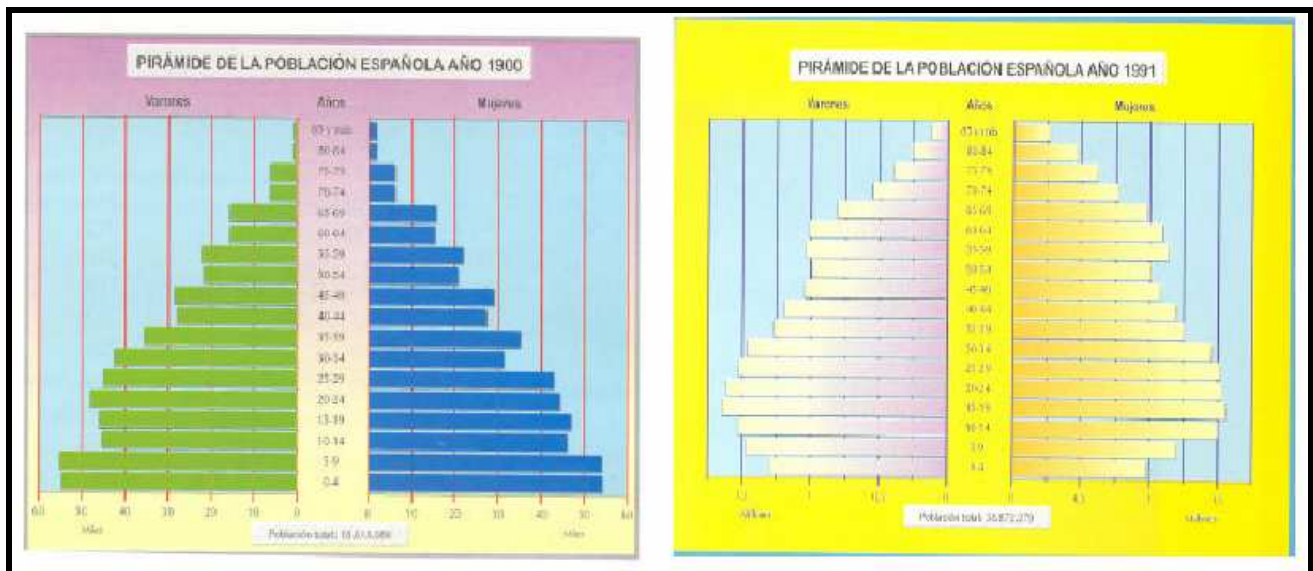
- a) Identifique las provincias que, teniendo en 1900 una densidad de población menor de 25 habitantes/km², han aumentado su densidad hasta tener valores superiores a 25 habitantes/km². en el año 2001.
- b) Identifique las provincias que presentan los valores de más de 150 habitantes/km² en el año 2001.
- c) Explique las causas que han contribuido al reparto de la población observado en 2001.



PRÁCTICA nº 06
PREGUNTA 2 DEL EXAMEN DE 2003, 2004

En la figura siguiente se representan las pirámides de edad de la población española correspondientes a 1900 y a 1991.
 Analícelas y conteste a las siguientes preguntas:

- a) ¿A qué modelo de estructura demográfica corresponde cada una de estas pirámides? Razone la respuesta.
- b) ¿Cuáles son las causas que explican los entrantes correspondientes a los grupos de edad de entre 45 y 54 años en la pirámide de 1991?. ¿Y el entrante correspondiente al grupo de edad de 0 a 4 años?.
- c) Explique el comportamiento de la población española entre las fechas de una y otra pirámides y las posibles consecuencias que se pueden derivar de la situación de 1991.

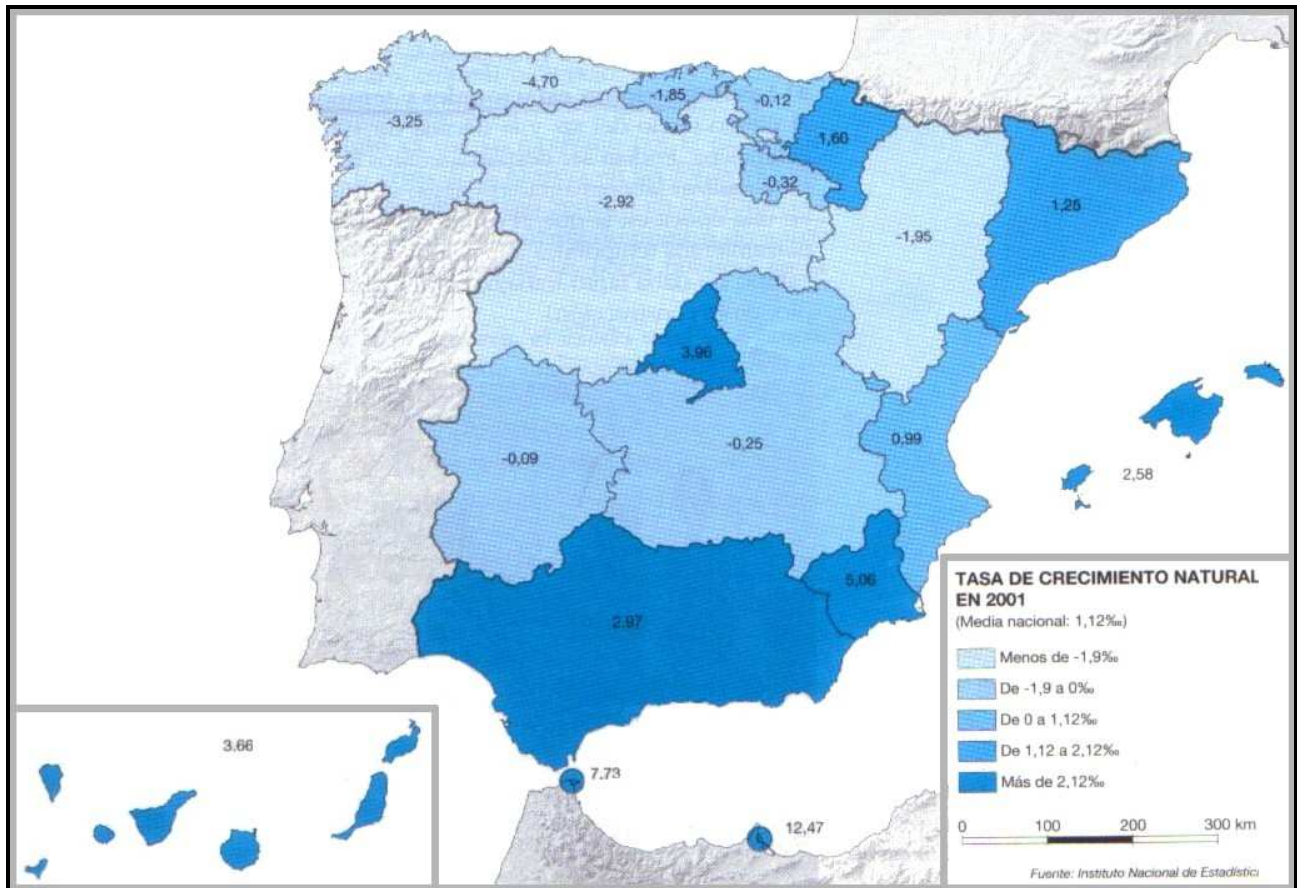


PRÁCTICA nº 07
PREGUNTA 2 DEL EXAMEN DE 2004

En el siguiente mapa se representa la tasa de crecimiento natural de la población en España.

Con la información de dicho mapa responda a las siguientes cuestiones:

- a) Nombre de las Comunidades Autónomas con una tasa de crecimiento natural superior al 2,12 %.
- b) Nombre de las Comunidades Autónomas con una tasa de crecimiento natural inferior al 1,9 %. Explique las causas que la motivan.
- c) Diferencias que dan lugar a los desequilibrios territoriales en el movimiento natural de la población.



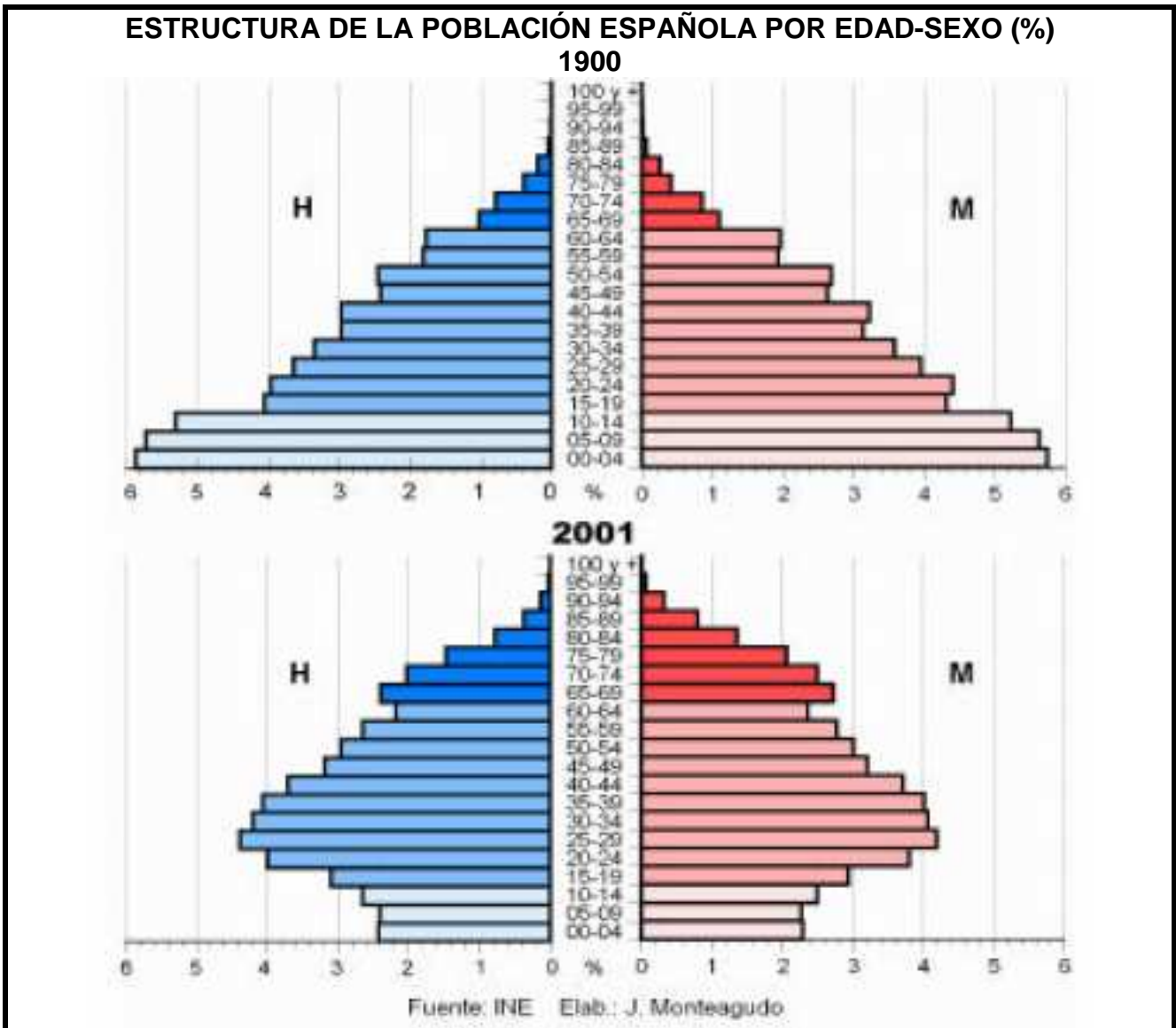
PRÁCTICA nº 08

PREGUNTA 2 DEL EXAMEN DE 2005, 2006, 2007, 2012

Las figuras muestran la estructura de la población por edad y sexo de la población española en 1900 y en 2001.

Obsérvelas y conteste:

- a) ¿A qué modelo de estructura demográfica corresponde cada una de estas figuras? Razone la respuesta explicando brevemente las causas que dan lugar a ambos modelos al comienzo y final del siglo XX
- b) Compare la población de 65 y más años en ambas figuras ¿qué diferencias básicas existen?, ¿qué está ocurriendo en la figura de 2001?, ¿qué consecuencias sociales tiene?.
- c) Compare la población de 0-14 años en ambas figuras ¿qué diferencias básicas existen?, ¿qué está ocurriendo en la figura de 2001?, ¿qué consecuencias sociales tiene?.

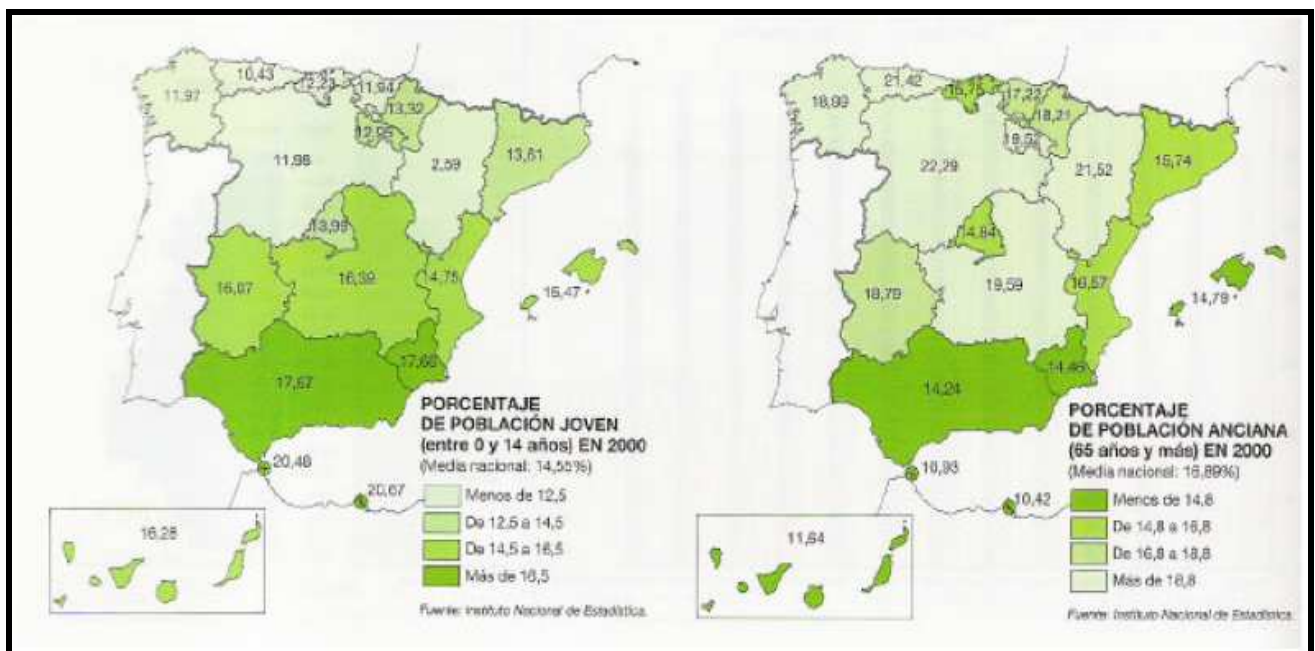


PRÁCTICA nº 09
PREGUNTA 2 DEL EXAMEN DE 2005

Los mapas representan la estructura de la población menor de 15 años y mayor de 65 años en el año 2000.

Observe los mapas y responda a las siguientes preguntas:

- a) Nombre todas las Comunidades Autónomas que tienen una “población joven”: superior al 14,5 %; y las que tienen una “población anciana” superior al 18,8 %.
- b) Señale las posibles causas de esta distribución estructural y territorial de la población española.
- c) ¿Qué consecuencias tiene esta estructura en la sociedad y en la economía de las regiones afectadas por uno u otro caso?

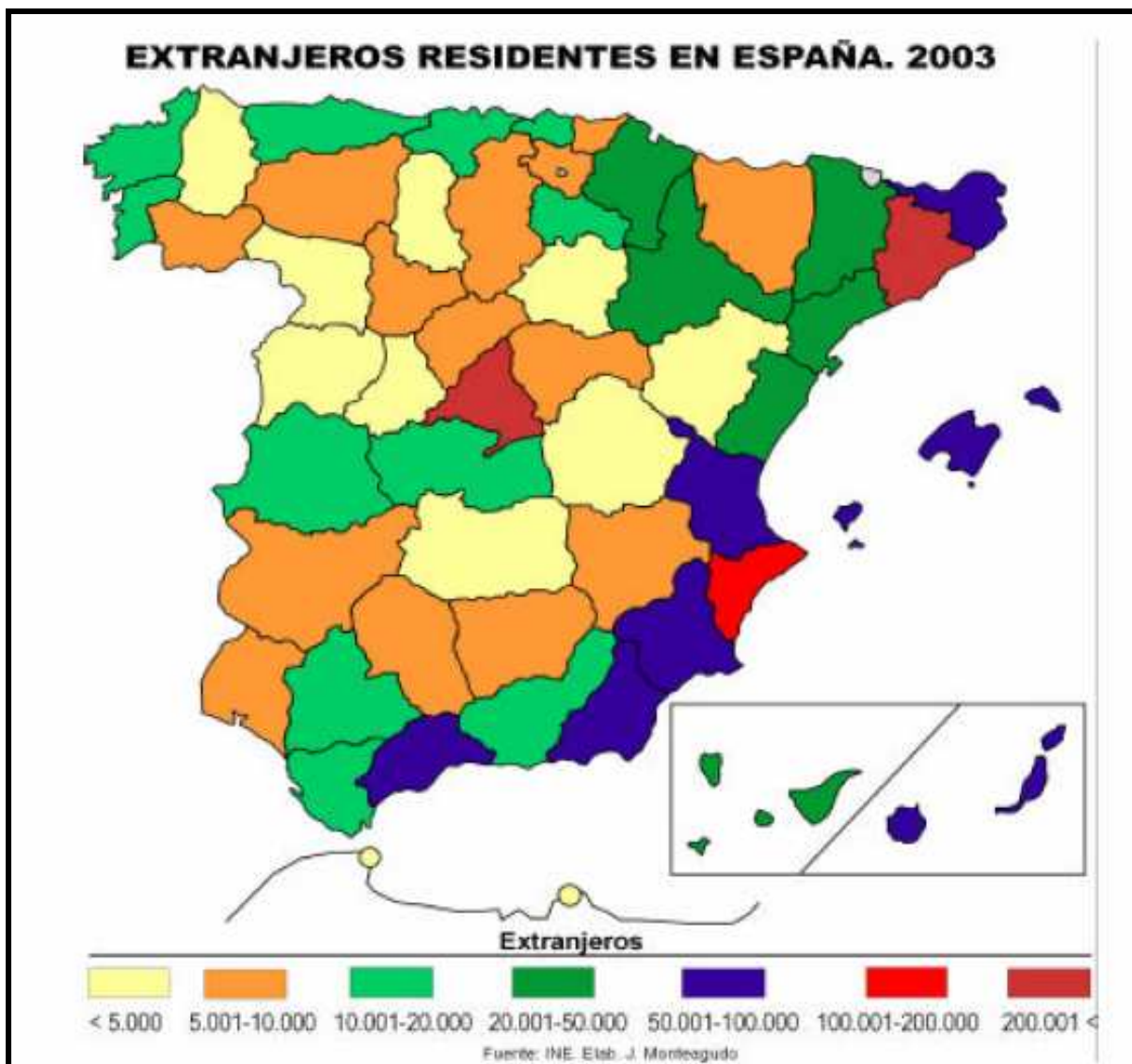


PRÁCTICA nº 10
PREGUNTA 2 DEL EXAMEN DE 2005, 2007

El mapa representa la localización de la población extranjera en las provincias españolas.

En función de ello responda a las siguientes cuestiones:

- a) ¿Qué provincias acogen de 20.001 extranjeros en adelante?
- b) Exponga a grandes rasgos las tendencias territoriales en la localización de extranjeros ¿por qué se acumulan en esas provincias?.
- c) ¿Cuáles considera que son los principales países de origen de los extranjeros en España y por qué razones son esos países?.

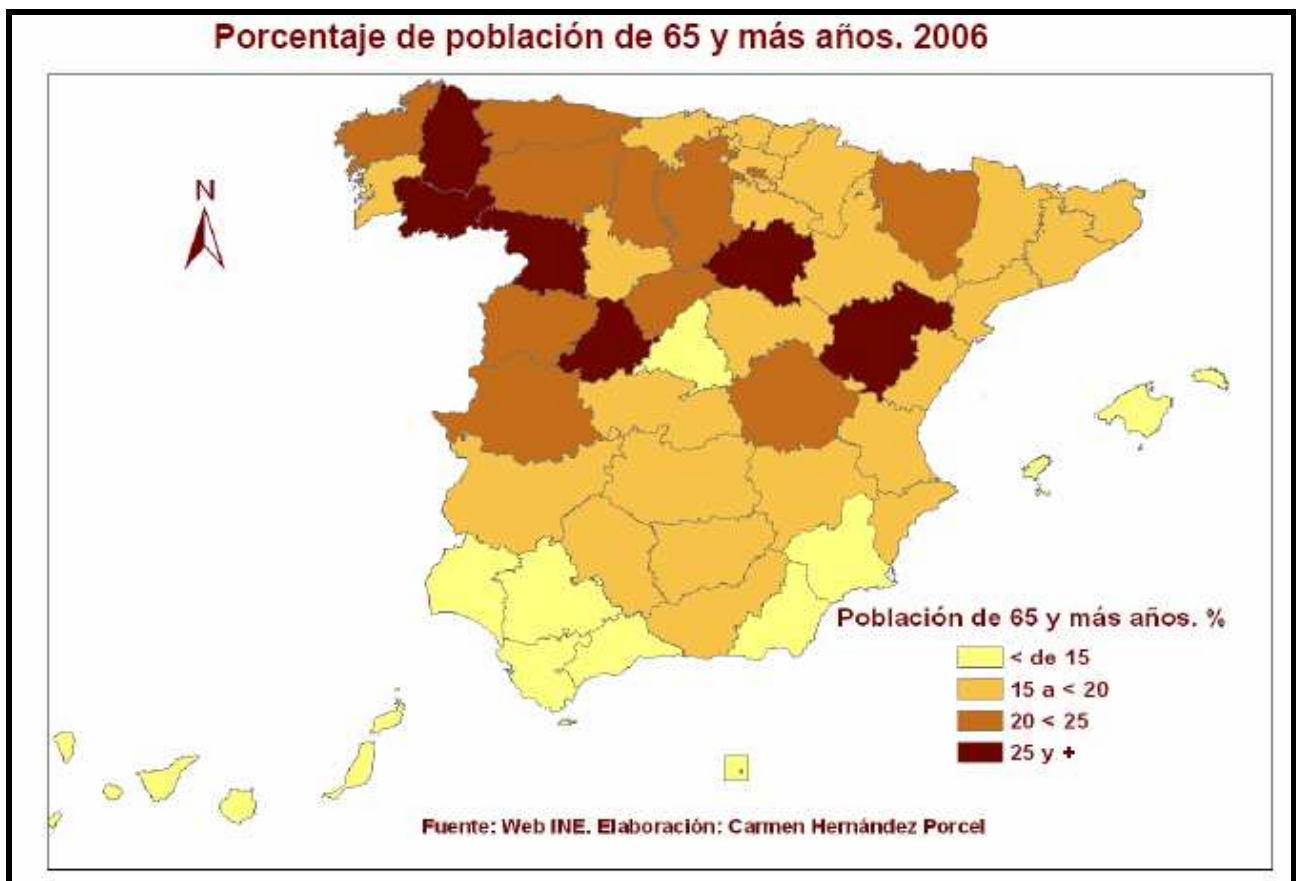


PRÁCTICA nº 11
PREGUNTA 2 DEL EXAMEN DE 2008, 2009

En la figura siguiente se representa e peso porcentual de la población vieja en España en 2006.

Analícelo y conteste a las siguientes preguntas:

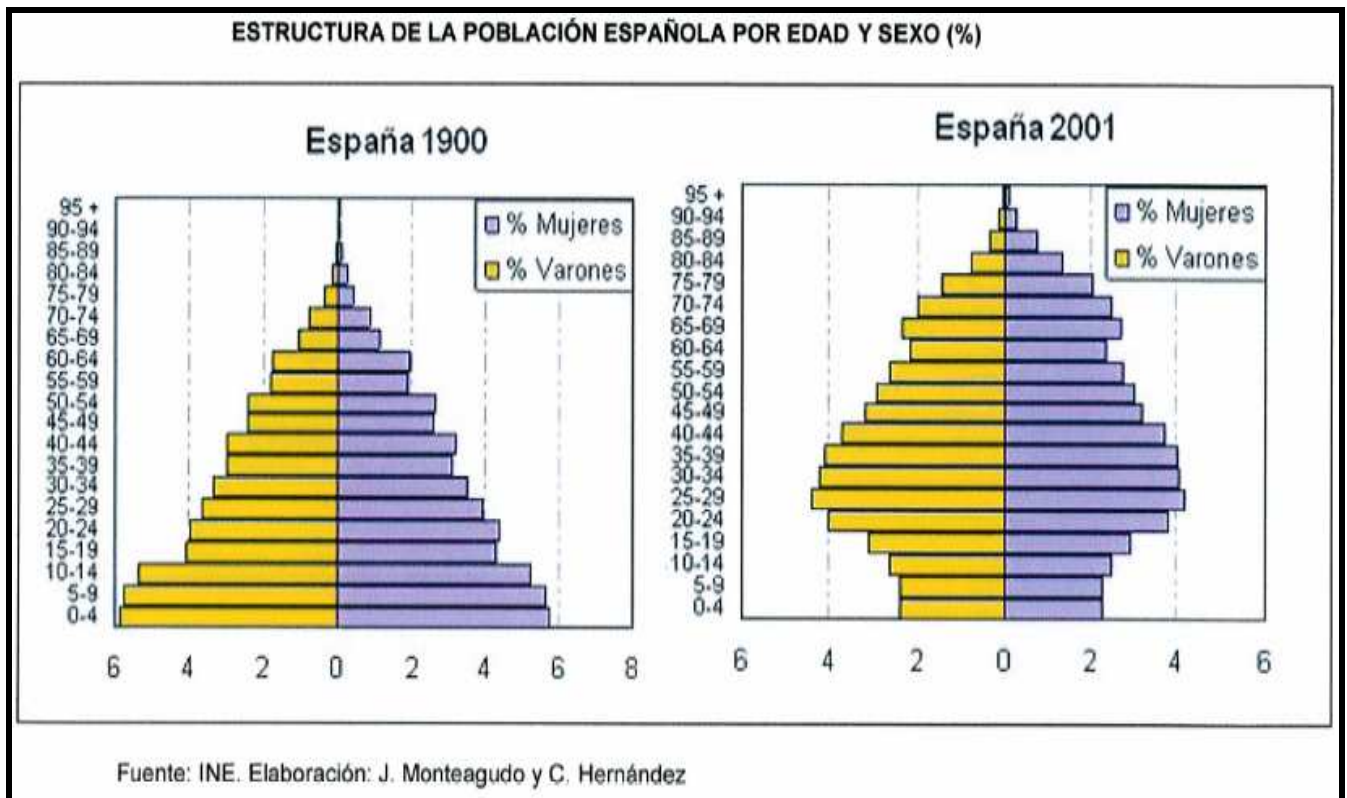
- a) Cite las provincias en las que la población es mas joven y aquéllas en las que está más envejecida.
- b) ¿Cuáles son las causas del envejecimiento demográfico?
- c) ¿A que se deben estos contrastes entre las distintas provincias españolas?



PRÁCTICA nº 12
PREGUNTA 2 DEL EXAMEN DE 2009

2. Las pirámides muestran la estructura por edad y sexo de la población española en 1900 y en 2001. Obsérvelas y conteste:

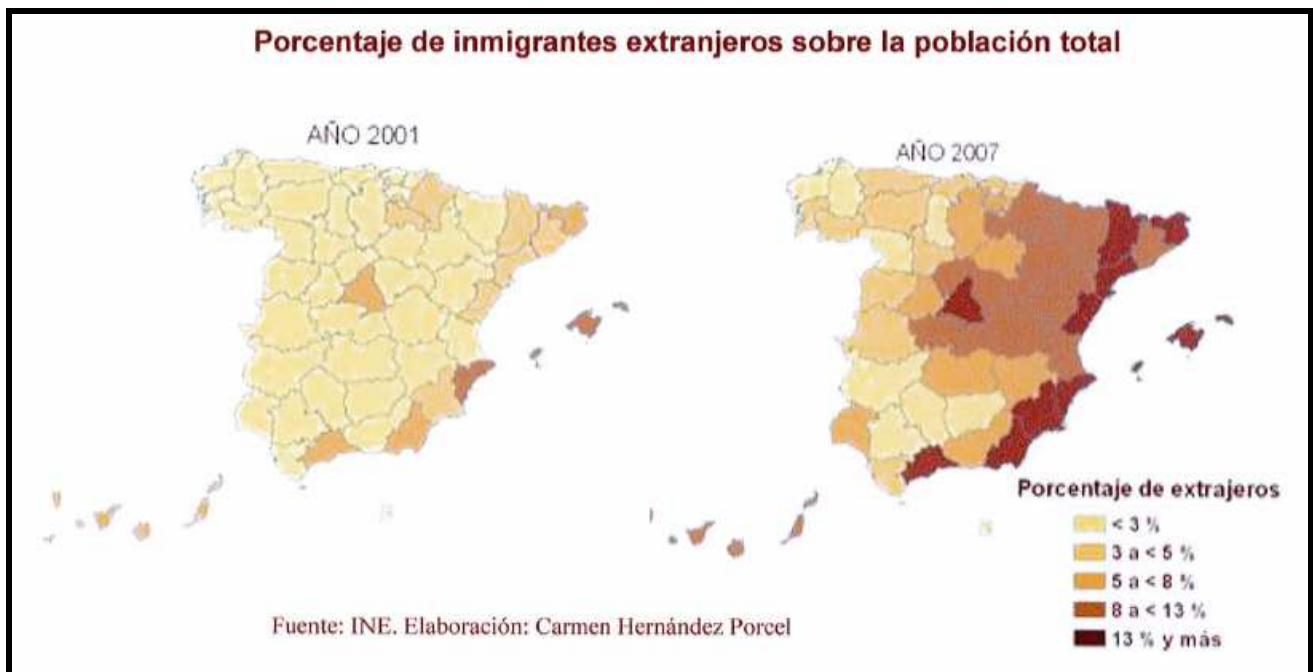
- a) Compare la población de 0 a 14 años en ambas figuras. ¿Qué diferencias básicas existen?, ¿Qué está ocurriendo en la figura de 2001? ¿Que consecuencias sociales tiene? (Hasta 1 punto)
- b) Compare la población de 65 años y más en ambas figuras. ¿Qué diferencias básicas existen?, ¿Qué está ocurriendo en la figura de 2001? ¿Que consecuencias sociales tiene? (Hasta 1 punto)
- c) ¿A qué modelo de estructura demográfica corresponde cada una de estas pirámides? Razone la respuesta explicando brevemente las causas que dan lugar a ambos modelos al comienzo y al final del siglo XX. (Hasta 2 puntos)



PRÁCTICA nº 13
PREGUNTA 2 DEL EXAMEN DE 2009

2. Los siguientes mapas representan el porcentaje de extranjeros con respecto al total de población de cada provincia española en dos años diferentes. Analícelos y conteste a las siguientes preguntas:

- a) ¿Qué provincias tienen más de un 8% de extranjeros en ambos años? (Hasta 1 punto)
- b) ¿A qué se debe el cambio entre ambas fechas en esas provincias? (Hasta 1,5 puntos)
- c) Razone las consecuencias demográficas y sociales de la inmigración en España. (Hasta 1,5 puntos)

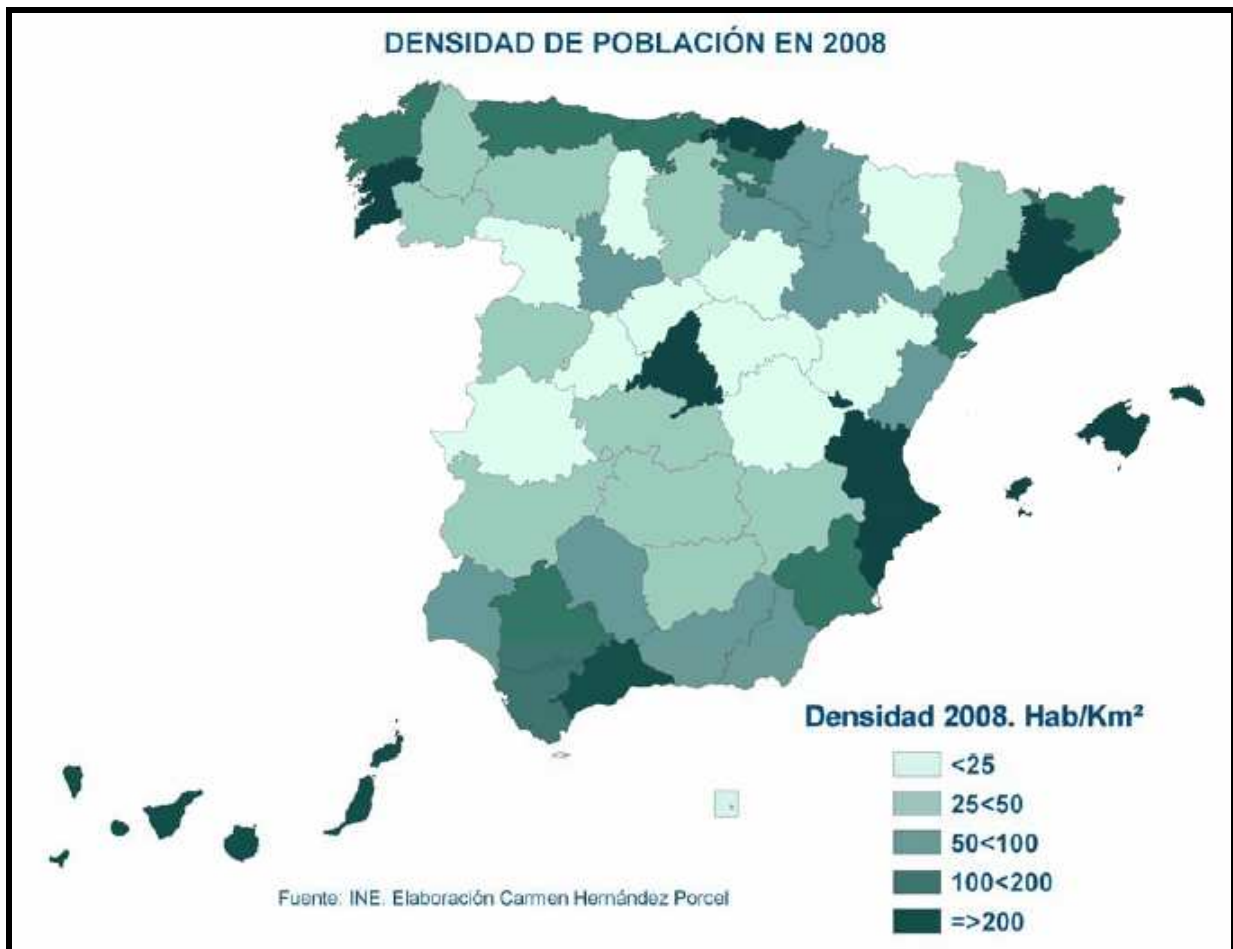


PRÁCTICA nº 14
PREGUNTA 2 DEL EXAMEN DE 2010, 2011, 2012 y 2013

El mapa siguiente representa la densidad de población en España por provincias.

Analícelo y responda a las siguientes cuestiones:

- a) ¿Qué provincias son las que tienen una densidad mayor de 200 habitantes/km²? (Hasta 1 punto)
- b) ¿Qué diferencia hay entre las densidades de las provincias del interior y las de la periferia? (hasta 1 punto)
- c) Explique las causas de esta disimetría y las excepciones. (hasta 2 puntos)

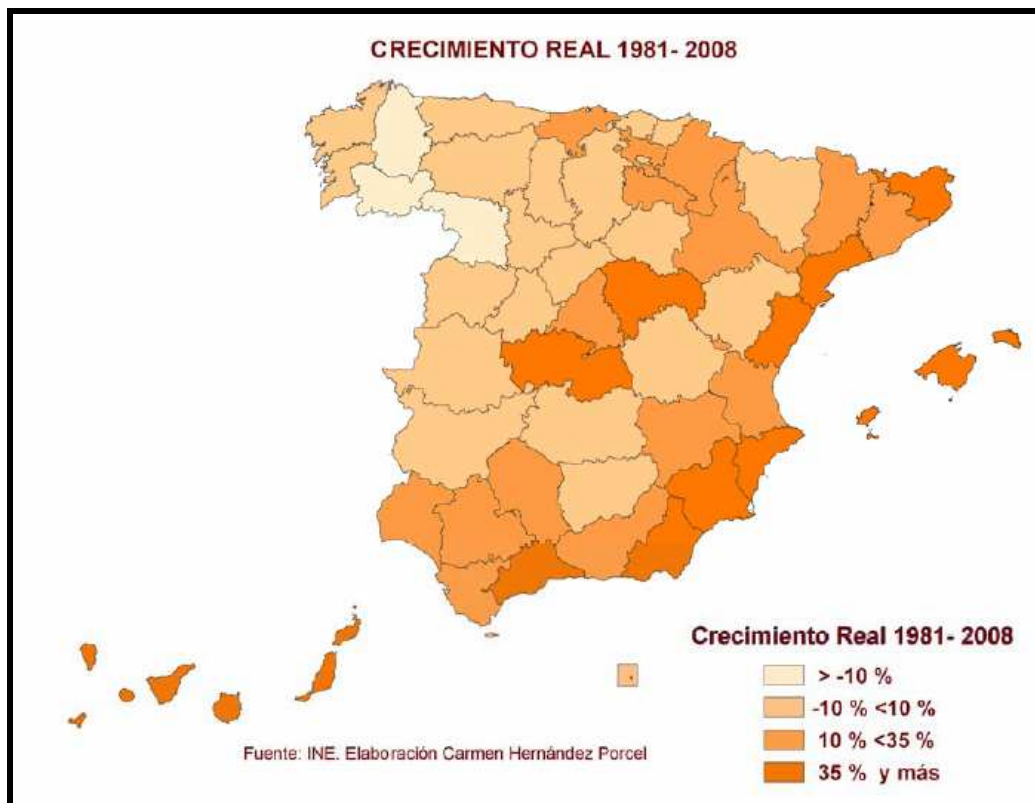


PRÁCTICA nº 15

PREGUNTA 2 DEL EXAMEN DE 2010, 2011, 2012

En el mapa siguiente se representa el crecimiento real de la población en España entre 1981 y 2008, por provincias. Analízelo y responda a las siguientes preguntas:

- ¿Qué provincias crecen más del 35%? .
- ¿Qué provincias pierden más del 10% de su población?
- Explique las posibles causas del crecimiento en las provincias en las que este es mayor del 10%.



PRÁCTICA nº 16

PREGUNTA 2 DEL EXAMEN DE 2009

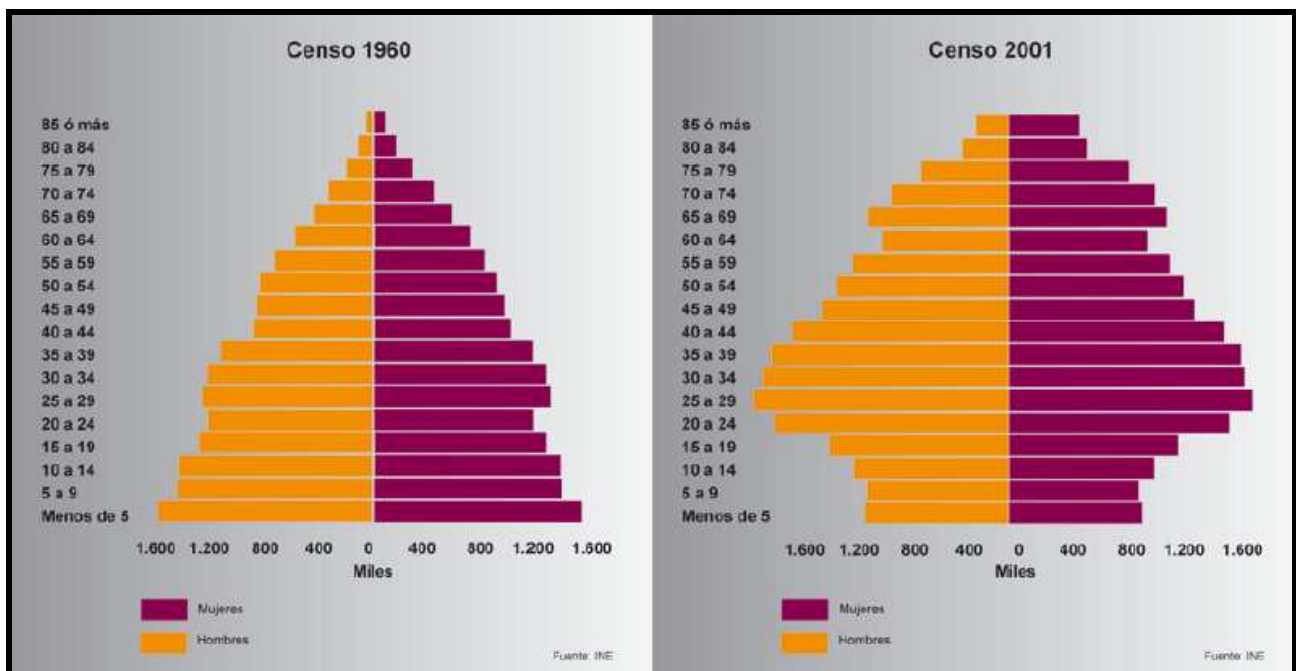
En el mapa de arriba se representa el crecimiento real de la población en España entre 1981 y 2008, por provincias. Analízelo y responda a las siguientes preguntas:

- Cite las provincias andaluzas en las que el crecimiento real se situó entre el 10% y el 35% en dicho período.
- ¿A qué comunidades autónomas pertenecen las provincias en las que el crecimiento real fue inferior al 10%? Explique las razones de este comportamiento..
- ¿Qué provincias crecieron más del 35%? Explique las posibles causas.

PRÁCTICA nº 17
PREGUNTA 2 DEL EXAMEN DE 2010

Las pirámides muestran la estructura por edad y sexo de la población española en 1960 y en 2001.
Obsérvelas y conteste:

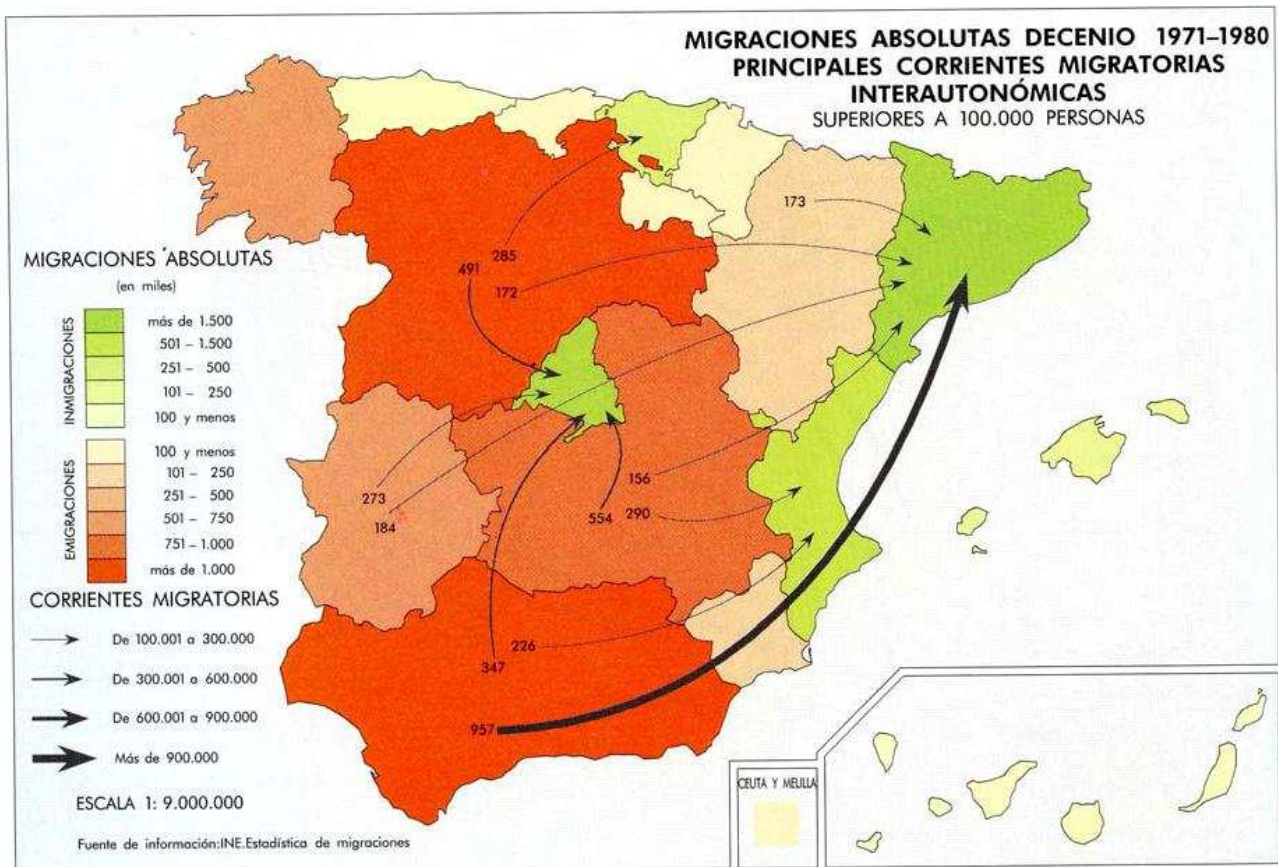
- a) Compare la población de 0 a 10 años en ambas figuras y explique las diferencias que observa ¿Qué consecuencias sociales tiene ese cambio?
- b) Compare la población de 65 años y más en ambas figuras. ¿Qué diferencias básicas existen?, ¿Qué consecuencias sociales tienen?
- d) Explique el modelo de estructura demográfica que representa cada una de estas pirámides. Razone la respuesta explicando brevemente las causas que dan lugar a ambos modelos.



PRÁCTICA nº 18
PREGUNTA 2 DEL EXAMEN DE 2010

Analice el mapa de migraciones interiores en 1971-80 y responda a las siguientes cuestiones:

- a) En la década de 1971-80 ¿Qué Comunidades Autónomas tienen valores migratorios superiores a 101.000 personas?, ¿Cuáles tienen valores inmigratorios superiores a 101.000 personas?
- b) Explique las causas principales por las que se producen los resultados que muestra el mapa de 1971-80.
- c) ¿Cambia sustancialmente la situación desde la década representada hasta la actualidad? Explíquelo

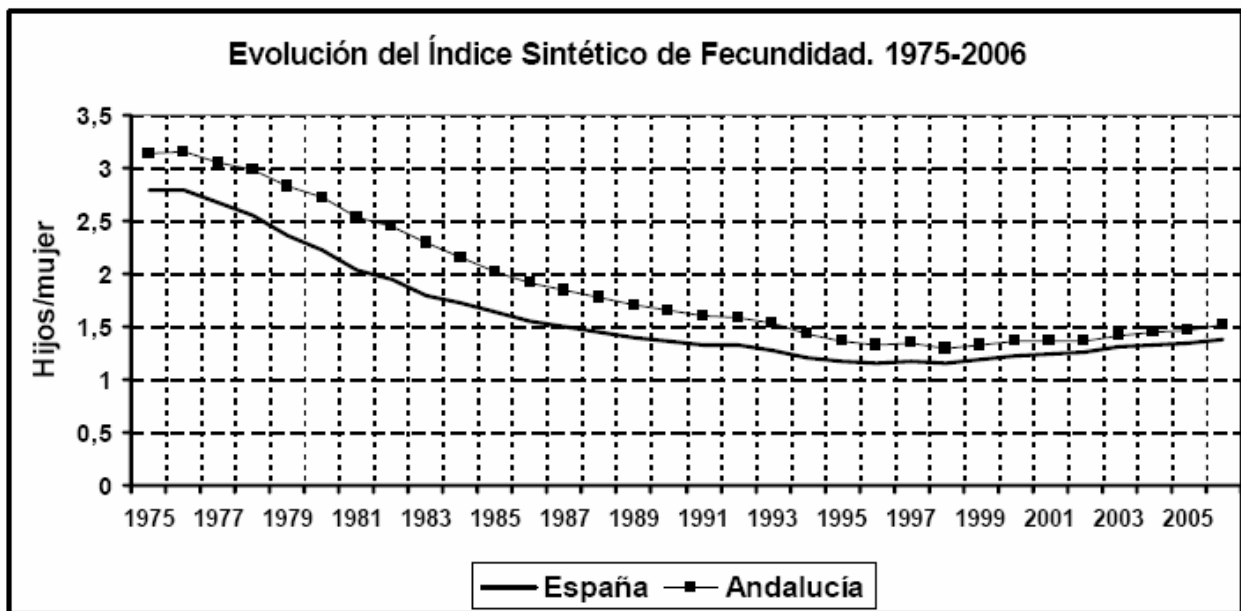


PRÁCTICA nº 19
PREGUNTA 2 DEL EXAMEN DE 2010

En el siguiente gráfico se representa la evolución del Índice Sintético de Fecundidad en España y en Andalucía.

Analícelo y responda a las siguientes cuestiones:

- Indique las fases que se observan en la evolución del índice en España. ¿En cuál de estas fases está asegurado el reemplazo de la población? ¿Por qué?.
- Explique porqué el índice es más elevado en Andalucía que en España y porqué en la última fase tienden a aproximarse.
- Explique las causas del descenso del índice en España.



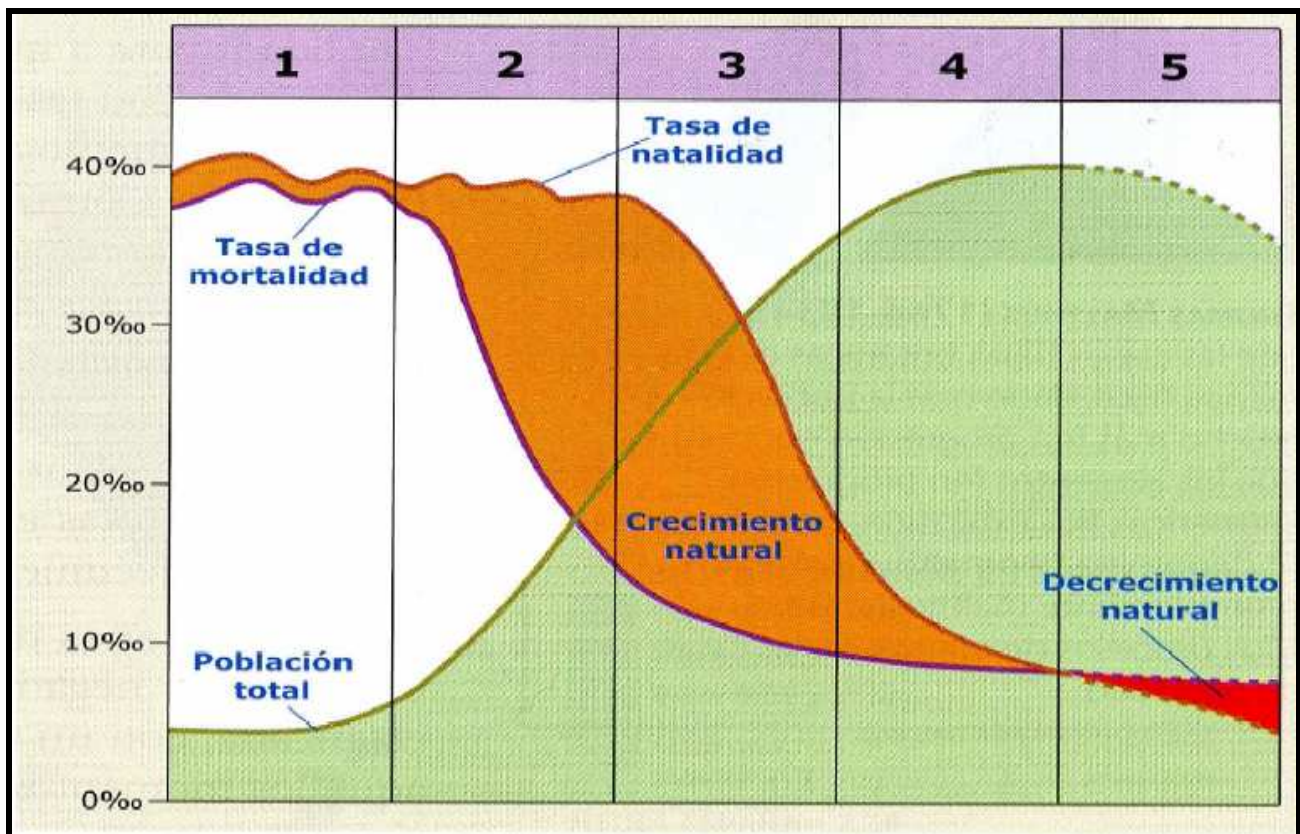
Fuente: INE. Estadísticas del MNP. Elaboración Juan Gámez

PRÁCTICA nº 20
PREGUNTA 2 DEL EXAMEN DE 2012 y 2013

En el gráfico adjunto se representa el modelo de transición demográfica en España.

Analícelo y conteste a las preguntas siguientes:

- Reconozca, indicando el número o números, la fase del modelo demográfico antiguo y explique el comportamiento en España de los elementos implicados.
- Reconozca, indicando el número o números, las fases de transición demográfica en España y explique los procesos que durante ella se producen.
- Señale, indicando el número o números, la fase del comportamiento demográfico moderno en España y diga sus características.
- Diga, aproximadamente, a qué fechas corresponden cada una de las fases del modelo en España.

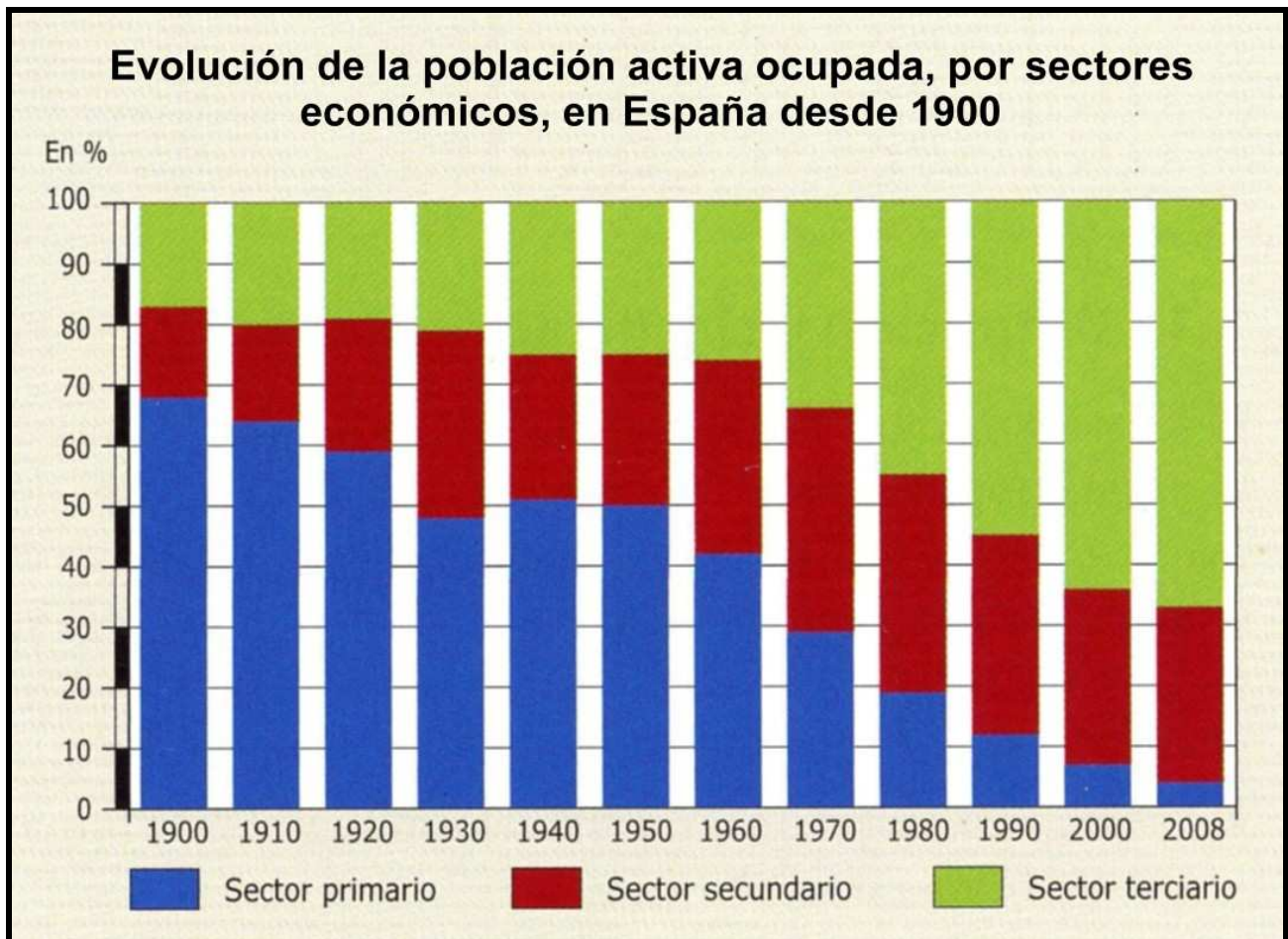


PRÁCTICA nº 21
PREGUNTA 2 DEL EXAMEN DE 2012

En el gráfico se representa la evolución de la población activa ocupada, por sectores económicos, en España desde 1900. Analícelo y conteste a las preguntas siguientes:

- a) Describa la evolución de cada sector entre las fechas indicadas indicando las etapas y las tendencias. (Hasta 1 punto).
- b) Explique las causas que dan lugar a esta evolución. (Hasta 1'5 puntos).
- c) Explique las consecuencias que se derivan de esta evolución (Hasta 1'5 puntos).

(Valoración hasta 4 puntos)



PRÁCTICA nº 22
PREGUNTA 2 DEL EXAMEN DE 2013

Las figuras muestran la estructura por edad y sexo de la población española en 1960 y en 2011.

Obsérvelas y conteste:

- a) Compare la población de 0-14 años en ambas figuras ¿qué diferencias básicas existen?, ¿qué especificidades presenta la figura de 2011 en estos grupos de edad?, ¿qué consecuencias sociales tiene ello? (Hasta 1 punto).
- b) Compare la población de 65 y más años en ambas figuras ¿qué diferencias básicas existen?, ¿qué especificidades presenta la figura de 2011 en estos grupos de edad?, ¿qué consecuencias sociales tiene ello?. (Hasta 1 punto).
- c) ¿A qué modelo de estructura demográfica corresponde cada una de estas figuras? Razone la respuesta explicando brevemente las causas que dan lugar a ambos modelos, a mediados del siglo XX y a comienzos del XXI. (Hasta 2 puntos).

