

Tema 6

BIOGEOGRAFÍA de ESPAÑA

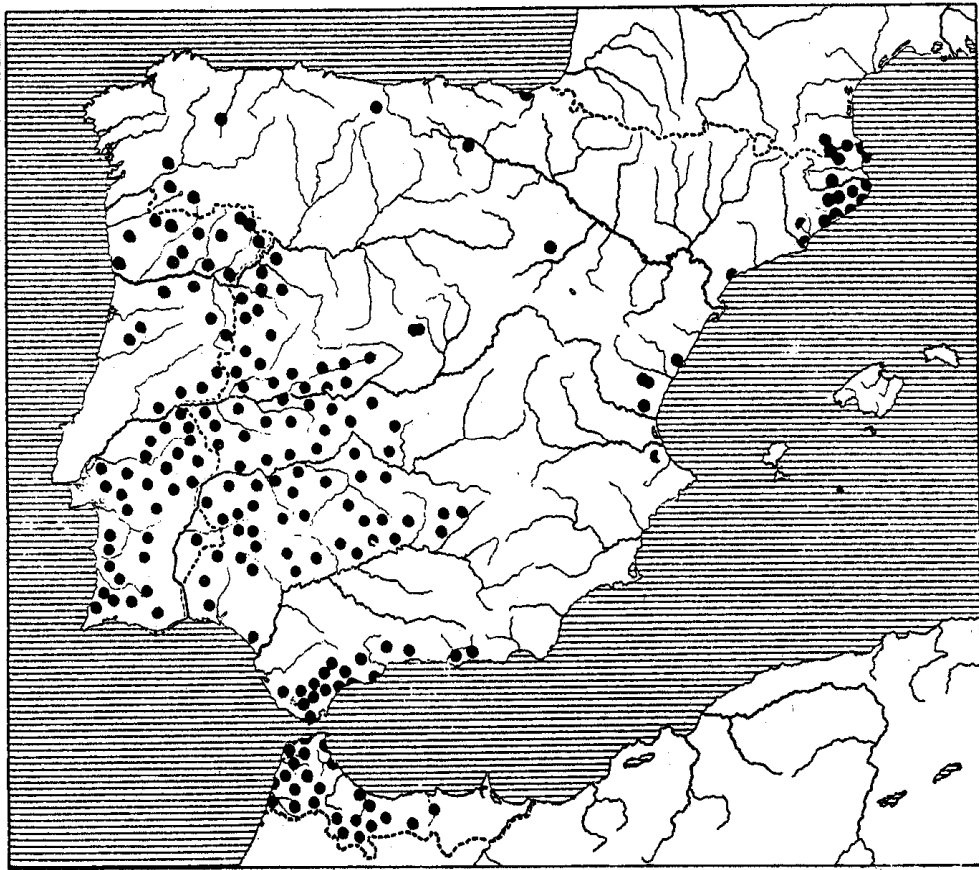
ACTIVIDADES PRÁCTICAS DE EXÁMENES DE SELECTIVIDAD (Pregunta 2ª)

PRÁCTICA nº 01 PREGUNTA 2 DEL EXAMEN DE 2001, 2002

El mapa representa la distribución del alcornoque en la Península Ibérica. Analícelo y responda a las siguientes preguntas:

- Diga el nombre de las cinco Comunidades Autónomas donde se localiza predominantemente.
- Qué relación existe entre esta distribución y la litología peninsular.
- Explique qué actividades económicas están relacionadas con esta especie vegetal.

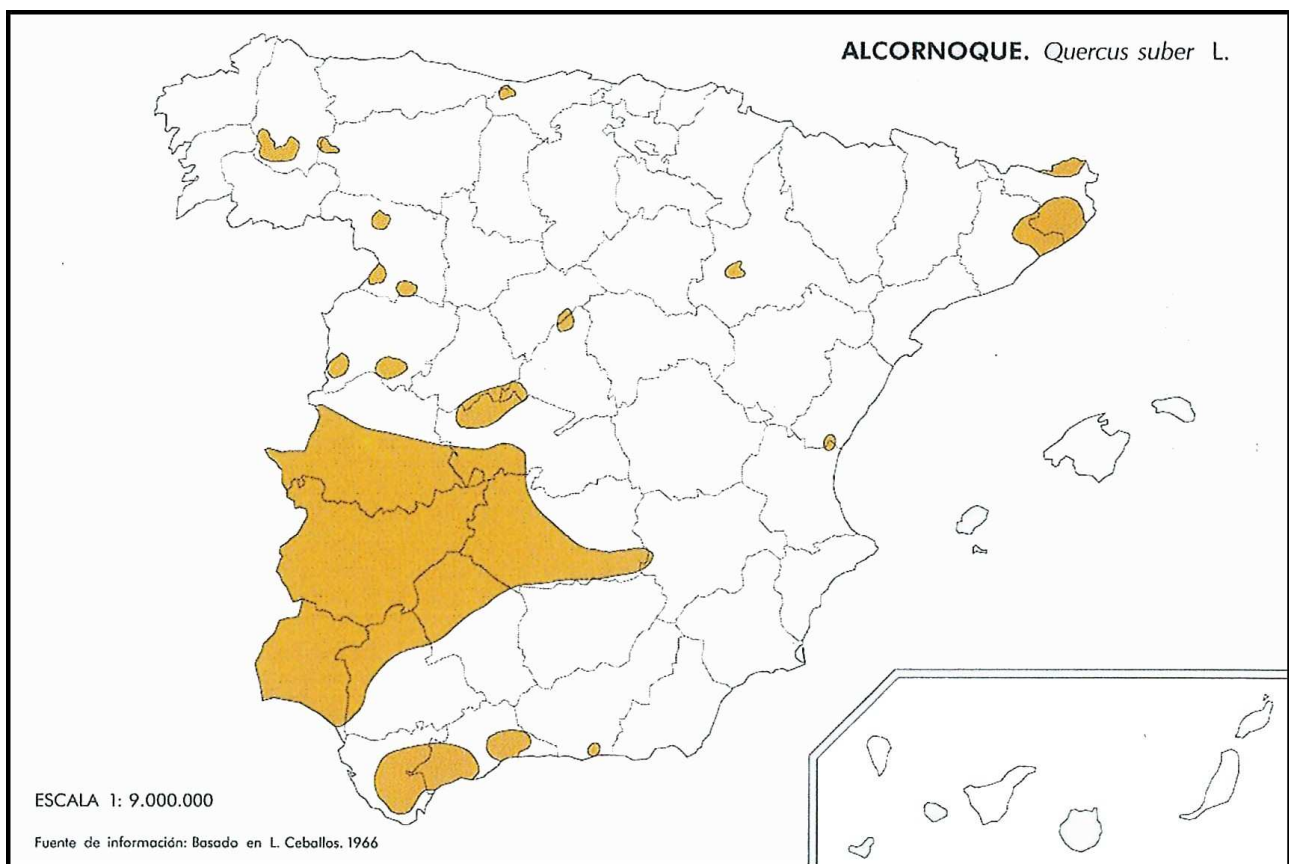
(Valoración: hasta 3 puntos)



PRÁCTICA nº 02
PREGUNTA 2 DEL EXAMEN DE 2003, 2006, 2009

El mapa representa la distribución del alcornoque en la Península Ibérica. Analícelo y responda a las siguientes preguntas:

- a) Diga el nombre de las provincias afectadas por la mancha más grande del mapa.
- b) Qué relación existe entre esta distribución y la litología peninsular.
- c) Explique qué actividades económicas están relacionadas con esta especie vegetal.

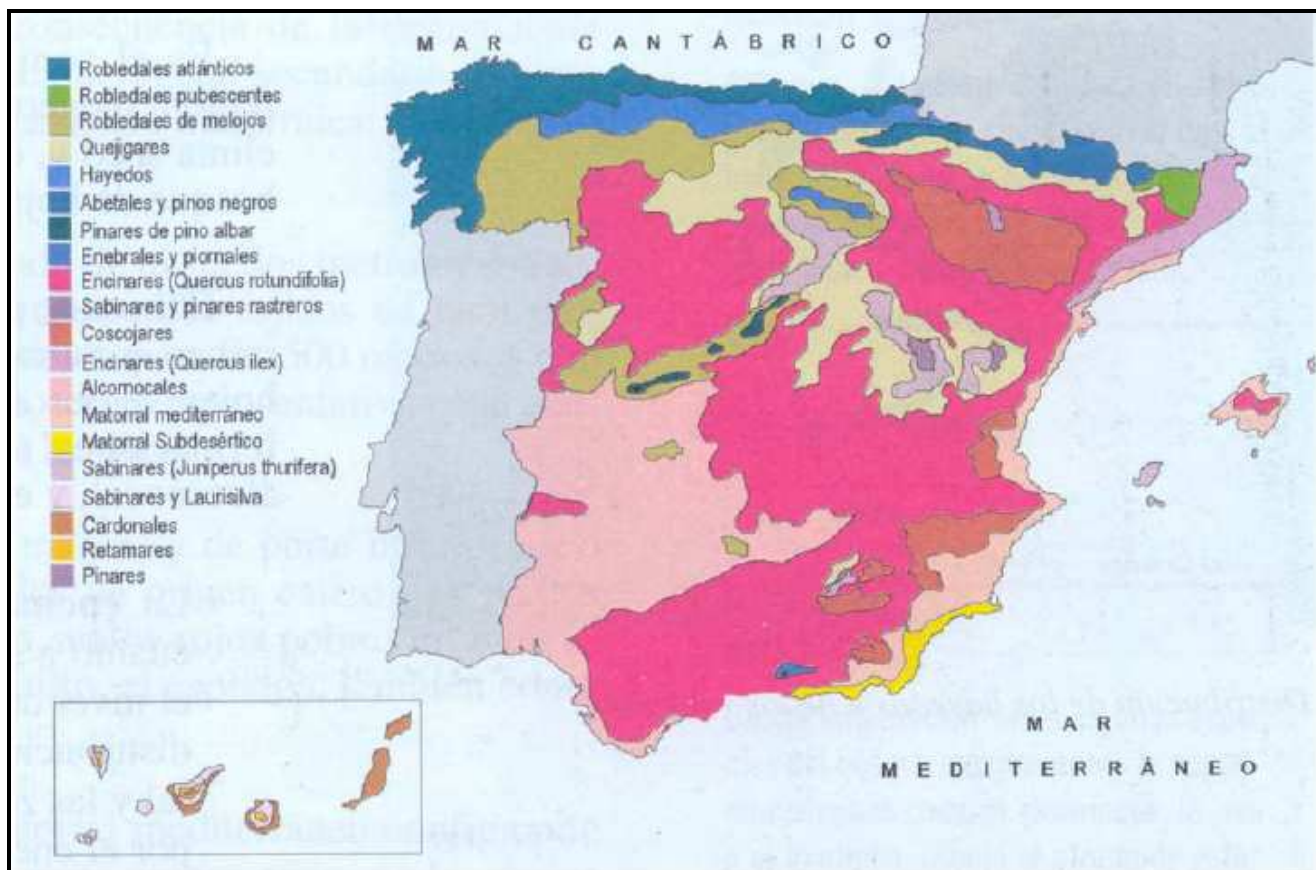


PRÁCTICA nº 03
PREGUNTA 2 DEL EXAMEN DE 2004, 2008, 2009

En el siguiente mapa se representa las distintas formaciones vegetales de España.

Con la información que contiene, conteste a las siguientes preguntas:

- a) Diga las Comunidades Autónomas sobre las que se localizan los robledales, en general, y el hayedo.
- b) Diga las provincias sobre las que se extiende el matorral subdesértico.
- c) Explique la relación que existe entre la distribución de estas formaciones vegetales y otros elementos del medio natural.



PRÁCTICA nº 04
PREGUNTA 2 DEL EXAMEN DE 2005, 2008

Los mapas representan la distribución de cuatro especies arbóreas en la Península Ibérica.

Obsérvelos y responda a las siguientes preguntas:

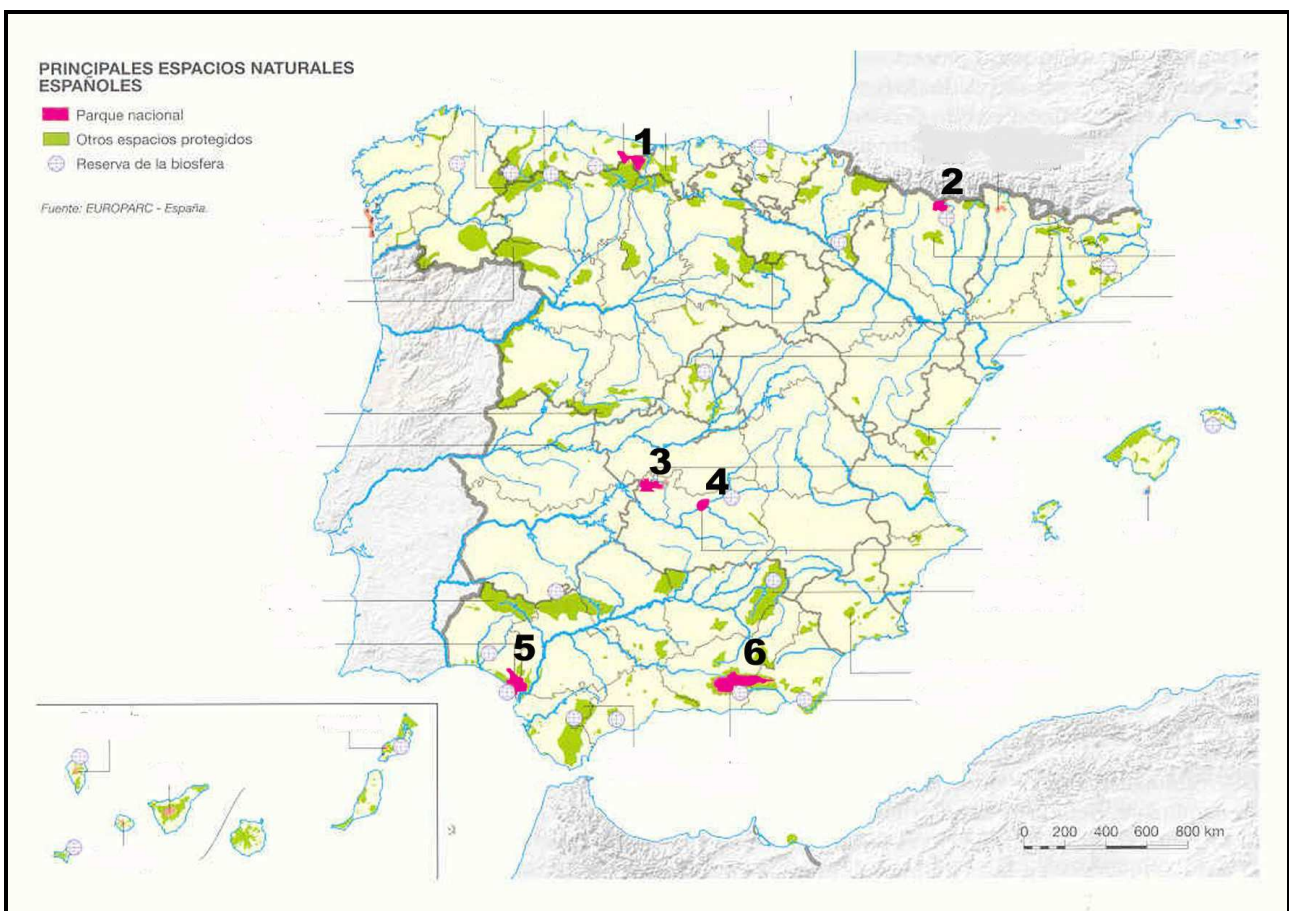
- a) Diga el nombre de las provincias en cuyo territorio se encuentra el haya.
- b) Qué relación existe entre la distribución de cada una de estas cuatro especies y los caracteres naturales de la Península.
- c) Explique qué actividades económicas están relacionadas con el alcornoque y cuáles con la encina. Razónelo brevemente



PRÁCTICA nº 05
PREGUNTA 2 DEL EXAMEN DE 2006, 2008, 2009, 2010

El mapa muestra el sistema de espacios protegidos en España:

- a) Identifique y dé nombre a los espacios protegidos con categoría de Parque Nacional, enumerados del 1 al 6.
- b) Identifique, en el mismo orden, la provincia o provincias sobre las que se encuentran.
- c) Explique la importancia de su conservación y su función desde distintos puntos de vista

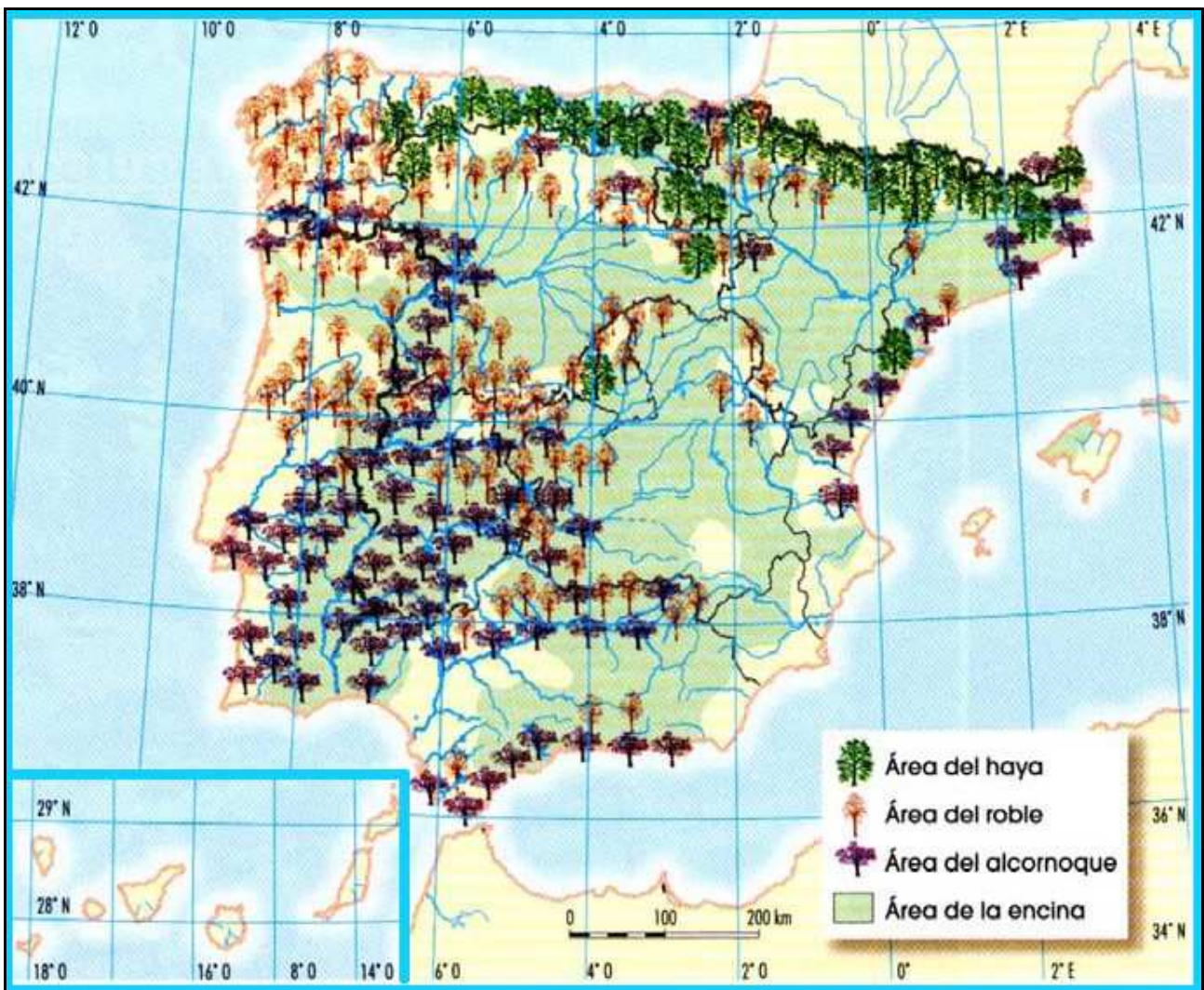


PRÁCTICA nº 06
PREGUNTA 2 DEL EXAMEN DE 2011

En el mapa se representa la extensión superficial de algunos árboles característicos de la vegetación española.

Obsérvelo y conteste a las siguientes preguntas:

- a) Indique el nombre de las Comunidades Autónomas donde se localiza, predominantemente, el alcornoque y cite las provincias en las que no hay encinas.
- b) ¿Sobre qué zonas litológicas se extiende el alcornoque? Explique las características de la encina que justifican su extensa distribución. De las especies señaladas en la leyenda, diga las que forman bosques caducifolios y cuáles forman bosques perennifolios.
- c) ¿Qué factores explican la mayor presencia de masas forestales en el oeste y norte de la Península?



PRÁCTICA nº 07
PREGUNTA 2 DEL EXAMEN DE 2014

A continuación se presenta un mapa de las regiones biogeográficas de España. Obsérvelo y responda a las siguientes cuestiones:

- a) Identifique las provincias administrativas correspondientes a la región eurosiberiana. (Hasta 1 punto).
- b) Señale las principales especies correspondientes al ámbito biogeográfico de Andalucía. (Hasta 1 punto).
- c) Explique la relación existente entre las condiciones físicas del territorio y las diferentes regiones biogeográficas. (Hasta 2 puntos).

(Valoración: hasta 4 puntos)

