

Tema 5

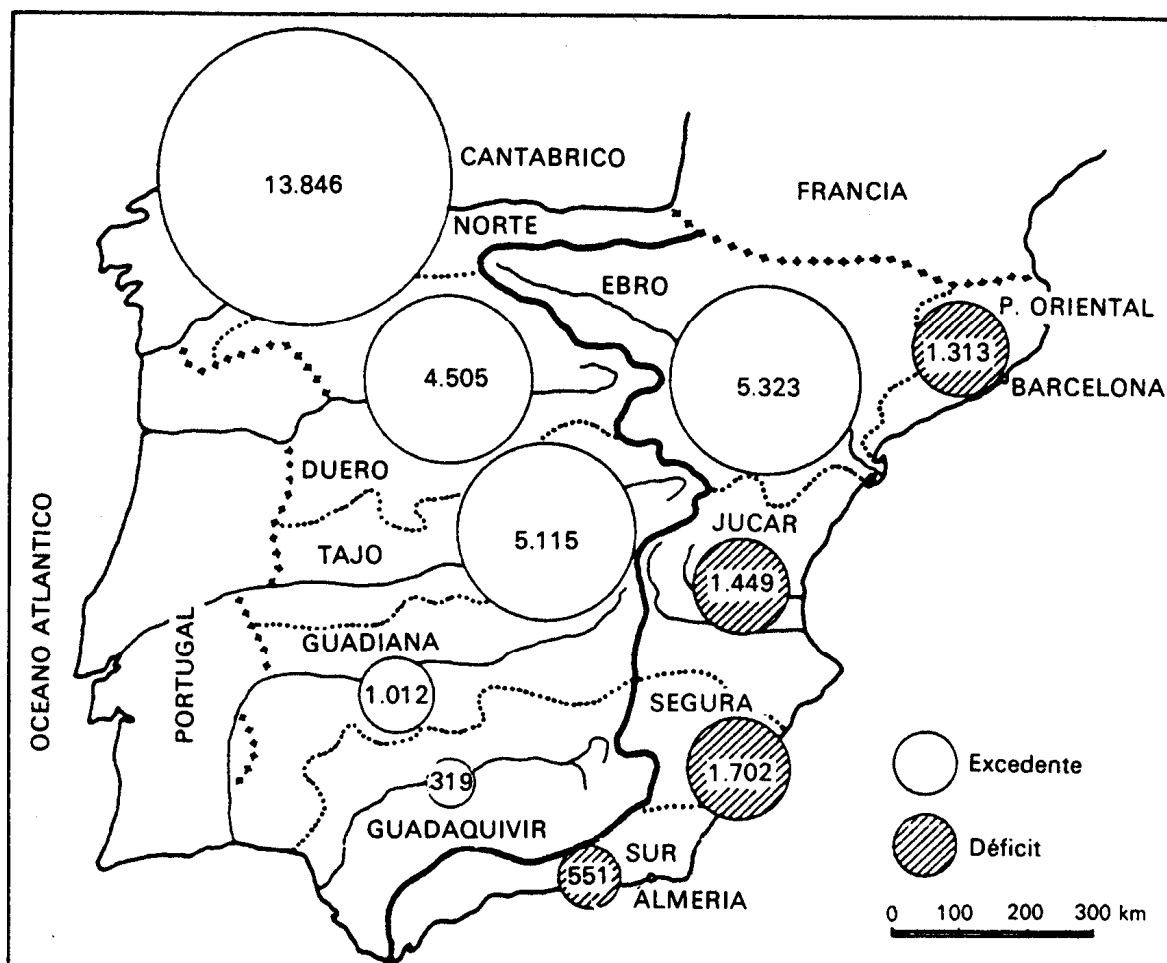
**LAS AGUAS:
SU PAPEL TERRITORIAL y AMBIENTAL en ESPAÑA**

**ACTIVIDADES PRÁCTICAS DE EXÁMENES DE
SELECTIVIDAD
(Pregunta 2ª)**

**PRÁCTICA nº 01
PREGUNTA 2 DEL EXAMEN DE 2001**

El mapa representa el balance hídrico de las principales cuencas hidrográficas de la Península Ibérica. Analízelo y responda a las preguntas siguientes:

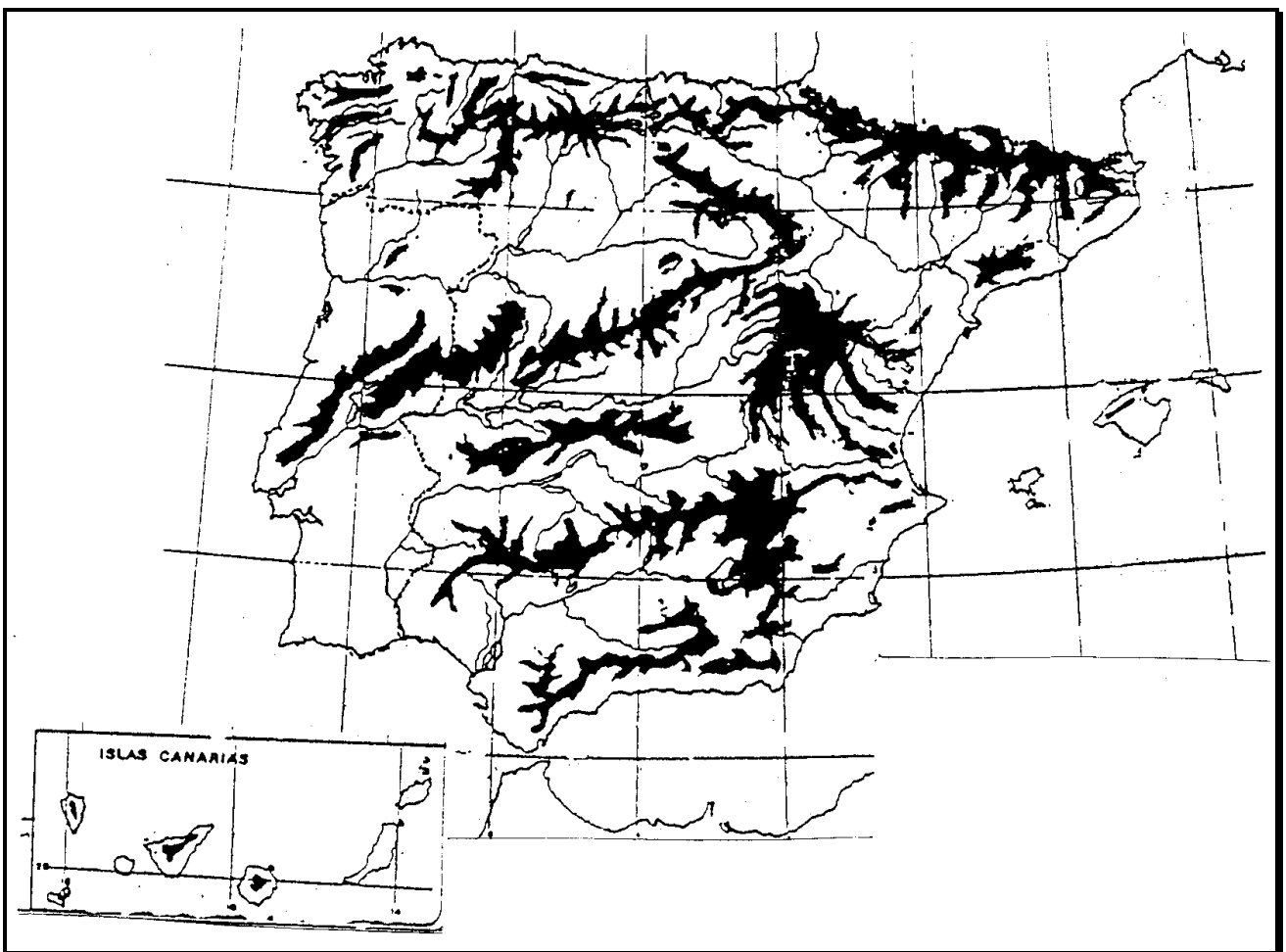
- a) Qué Comunidades Autónomas tienen un balance hídrico positivo.
- b) Explique los contrastes existentes en la vertiente mediterránea..
- c) Explique la variación de los valores del balance hídrico en la cuenca atlántica.



PRÁCTICA nº 02
PREGUNTA 2 DEL EXAMEN DE 2001

Analice el mapa que sigue y responda a las siguientes cuestiones:

- a) Enumere, de Norte a Sur, cinco ríos de la vertiente mediterránea española.
- b) Enumere, de Este a Oeste, las provincias españolas que baña el Mar Cantábrico.
- c) Cuál es la dirección dominante de los principales ríos de la Península Ibérica. Explique sus causas.

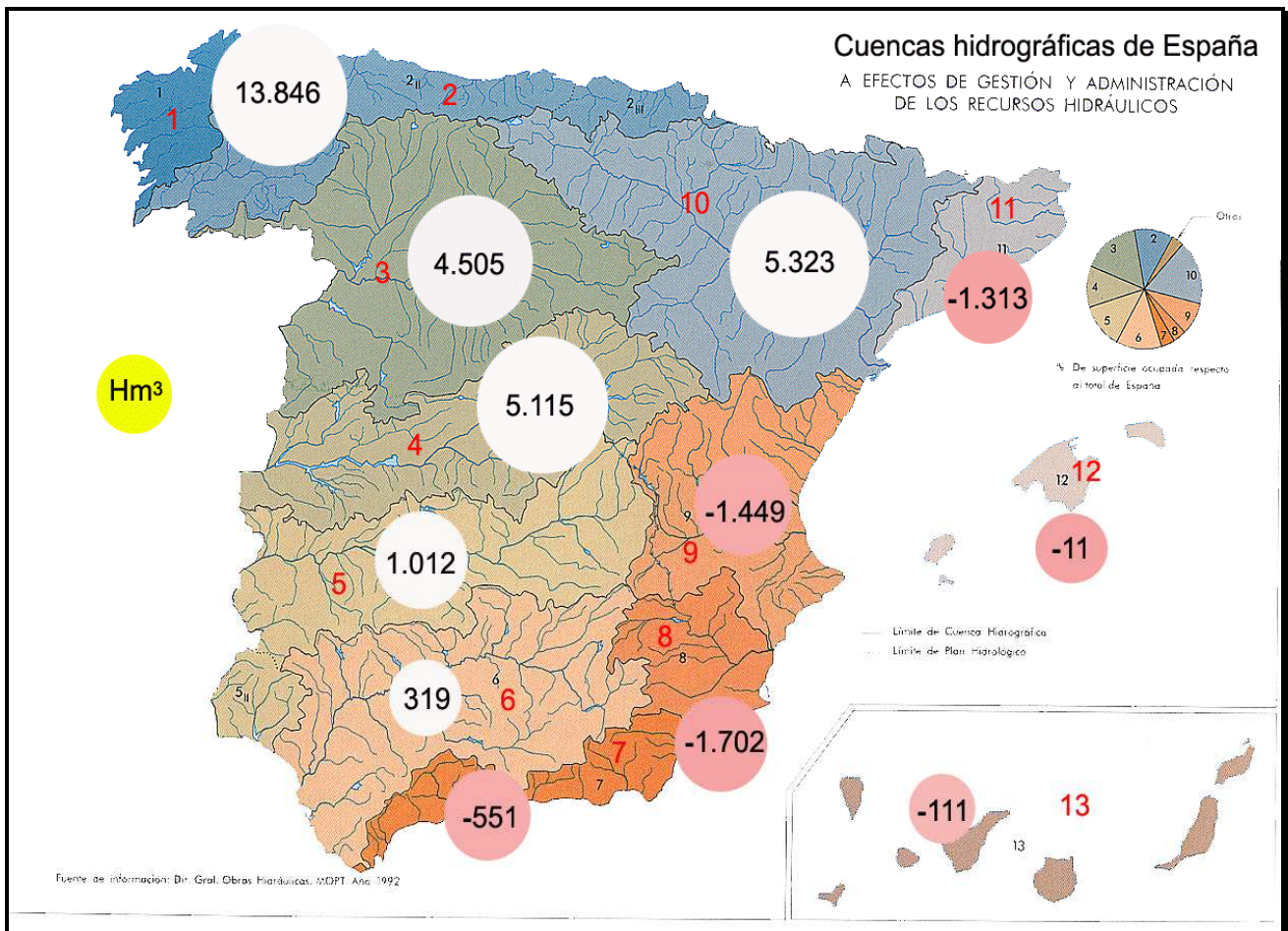


PRÁCTICA nº 03
PREGUNTA 2 DEL EXAMEN DE 2002, 2007, 2008, 2009

El mapa representa el balance hídrico de las principales cuencas hidrográficas de la Península Ibérica, Baleares y Canarias.

Analícelo y responda a las preguntas siguientes:

- a) Exprese del 1 al 11 los nombres de los principales ríos que alimentan cada una de esas cuencas
- b) ¿Qué Comunidades Autónomas tienen un balance hídrico negativo?
- c) Explique los contrastes y variación de los valores del balance hídrico en las cuencas de la vertiente atlántica peninsular.



PRÁCTICA nº 04
PREGUNTA 2 DEL EXAMEN DE 2005

El mapa muestra tanto los principales ríos como las costas peninsulares. Obsérvelo y conteste:

- a) Diga el nombre, junto con el número correspondiente, de los ríos que aparecen con 8, 6, 5, 3, 1. ¿Por qué es más extensa la vertiente fluvial occidental que la del sector oriental?
- b) Diga el nombre de los ríos 7, 4, 2. ¿Qué diferencias esenciales existen con los de la vertiente occidental?
- c) ¿Qué diferencias principales existen entre el aprovechamiento socioeconómico de la costas cantábrico-atlánticas del Norte y las costas mediterráneas y atlánticas del Sur?. Razónelo



PRÁCTICA nº 05
PREGUNTA 2 DEL EXAMEN DE 2010, 2011

Analice el mapa que sigue y responda a las preguntas siguientes:

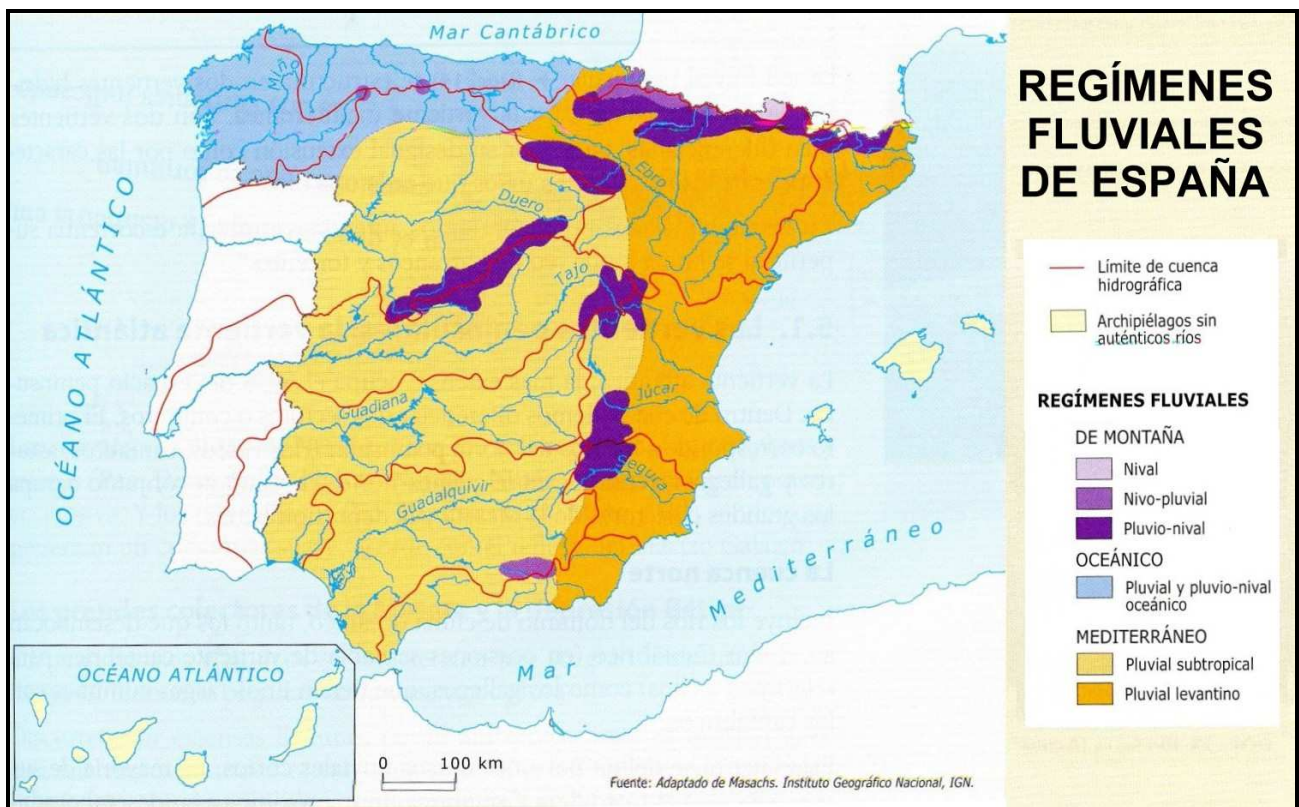
- a) Enumere, de Norte a Sur, cinco ríos de la vertiente mediterránea española.
- b) ¿Qué diferencia hay entre el concepto de **cuenca hidrográfica** y el de **red hidrográfica**?
- c) ¿Cuál es la dirección dominante de los principales ríos de la Península Ibérica?
Explique las causas.



PRÁCTICA nº 06
PREGUNTA 2 DEL EXAMEN DE 2010, 2012

En el gráfico se representan los tipos de regímenes fluviales de España. Analícelo y conteste a las preguntas siguientes:

- a) Identifique las unidades de relieve que presentan un régimen de montaña. (Hasta 1 punto).
- b) Explique las razones de la inexistencia de redes fluviales importantes en los dos archipiélagos representados. (Hasta 1 punto).
- c) Explique qué factores influyen en la distribución de los diferentes regímenes fluviales en la España peninsular. (Hasta 2 puntos).



PRÁCTICA nº 07
PREGUNTA 2 DEL EXAMEN DE 2014

A continuación se presenta un mapa de las vertientes y cuencas hidrográficas de España. Obsérvelo y responda a las siguientes cuestiones:

- a) Identifique y nombre de norte a sur las cuencas de la Vertiente Mediterránea. (Hasta 1 punto).
- b) Describa las principales características de la Vertiente Atlántica. (Hasta 1 punto).
- c) Explique las causas de la disimetría de las vertientes y las consecuencias que genera en las cuencas hidrográficas. (Hasta 2 puntos).

(Valoración: hasta 4 puntos)

