

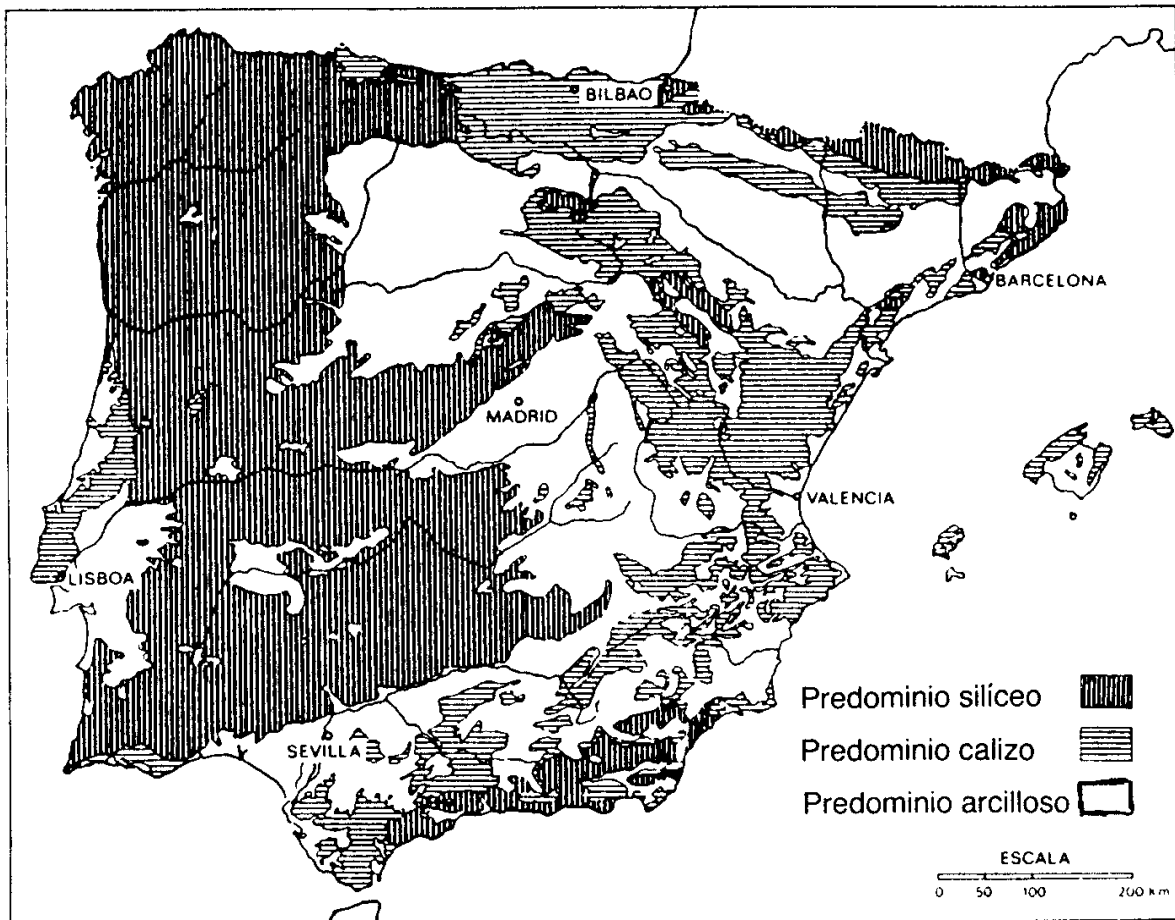
Tema 3
EL RELIEVE PENINSULAR E INSULAR

ACTIVIDADES PRÁCTICAS DE EXÁMENES DE SELECTIVIDAD (Pregunta 2ª)

**PRÁCTICA nº 01
 PREGUNTA 2 DEL EXAMEN DE 2001**

El mapa representa el roquedo de la Península Ibérica. Analícelo y responda a las siguientes preguntas:

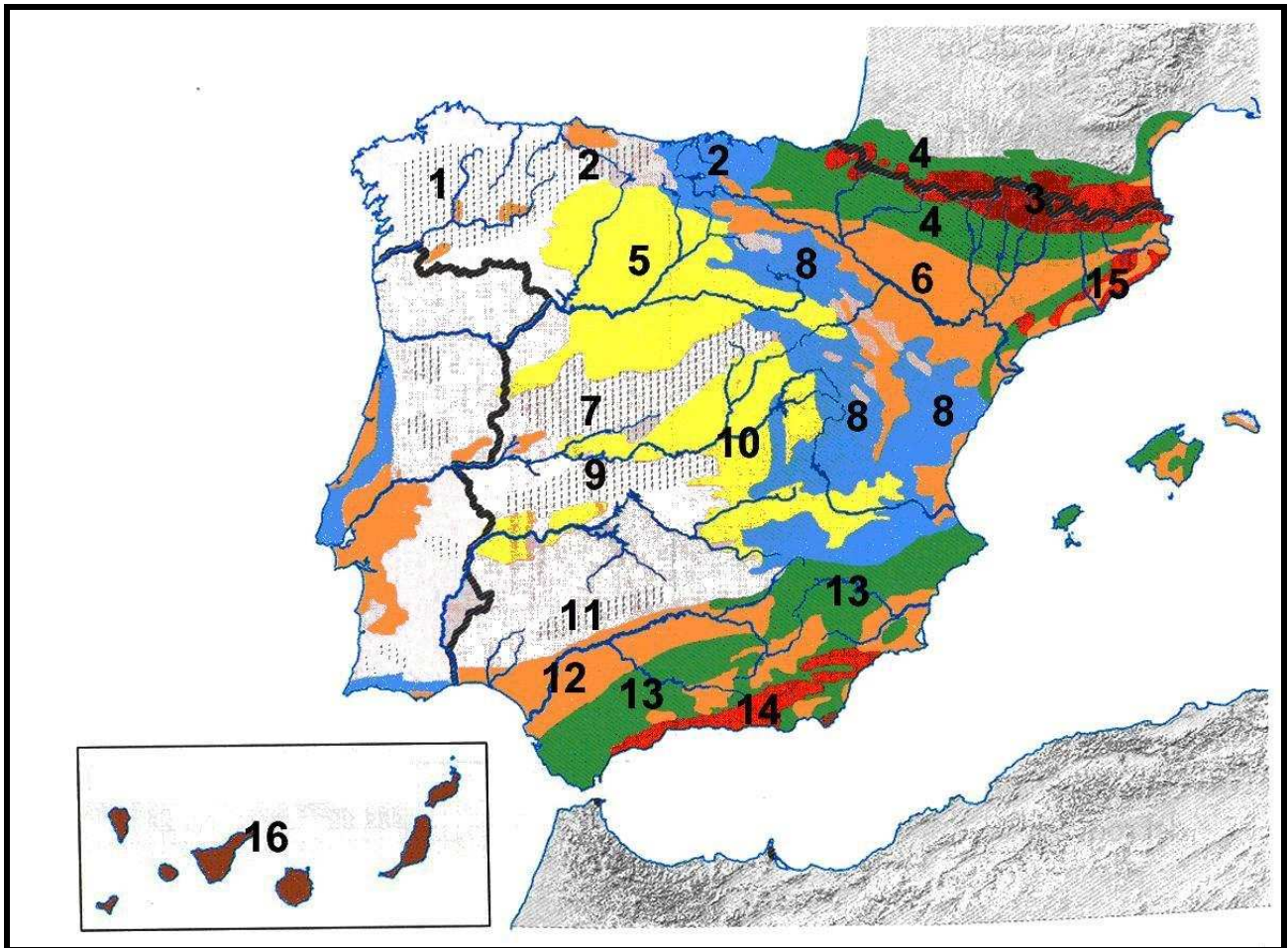
- a) Diga qué Comunidades Autónomas participan de litología caliza.
- b) Qué unidades de relieve se corresponden con cada uno de los tres grupos de rocas.
- c) Qué formas de relieve y qué rasgos topográficos asocia a cada una de las tres litologías.



PRÁCTICA nº 02
PREGUNTA 2 DEL EXAMEN DE 2002, 2004, 2006, 2010

El mapa representa las unidades morfoestructurales de España. Analízelo y responda a las siguientes preguntas:

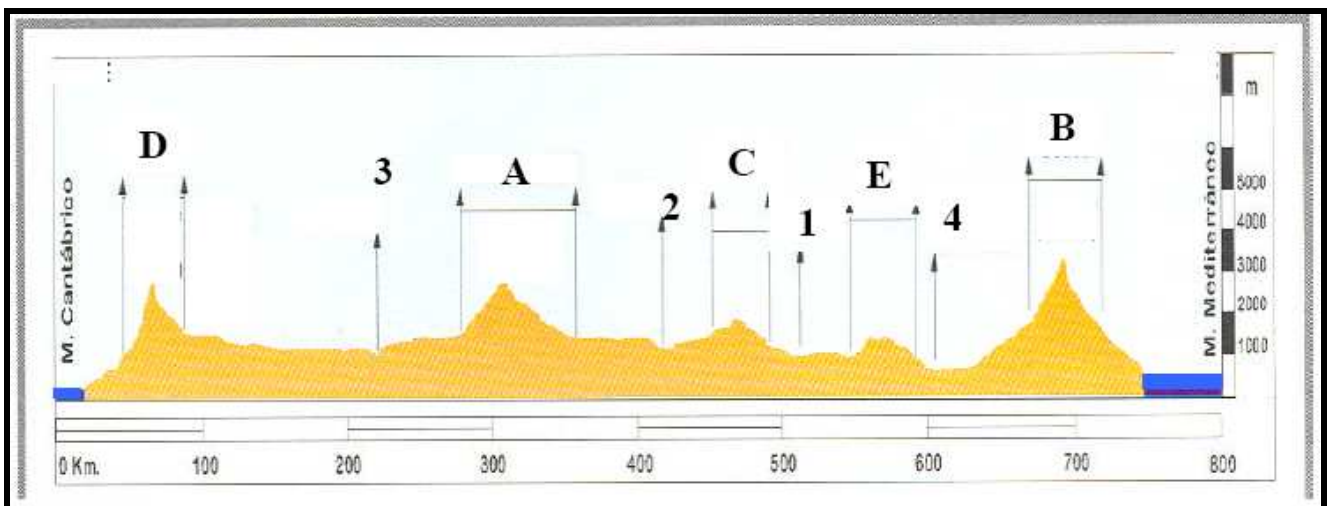
- a) Relacione, con nombre y número, las unidades de relieve exteriores a la Meseta
- b) Relacione, con nombre y número, las unidades de relieve interiores y periféricas de la Meseta.
- c) Partiendo de los tres principales tipos de roquedos de la Península, nómbralos con los números que cada uno de ellos tiene superpuestos. ¿Qué rocas predominan en el 16? ¿y en el 7?



PRÁCTICA nº 03
PREGUNTA 2 DEL EXAMEN DE 2003, 2004, 2005, 2007, 2010 y 2013

En el gráfico se representa un perfil topográfico de la Península Ibérica desde Cantabria a Granada. Obsérvelo y conteste a las preguntas siguientes:

- a) Enumere, ordenados de Norte-Sur, la letra y nombre correspondiente, de los sistemas de relieve que aparecen en el gráfico
- b) Enumere, ordenados de Norte-Sur, el número y nombre correspondiente, de los ríos que fluyen en los valles del gráfico.
- c) De los sistemas de relieve, diga, con letra y nombre, cuáles de ellos son: 1) interiores a la Meseta, 2) periféricos a la Meseta, y 3) exteriores a la Meseta. ¿Qué ríos de los que ha identificado desembocan en el océano Atlántico?.

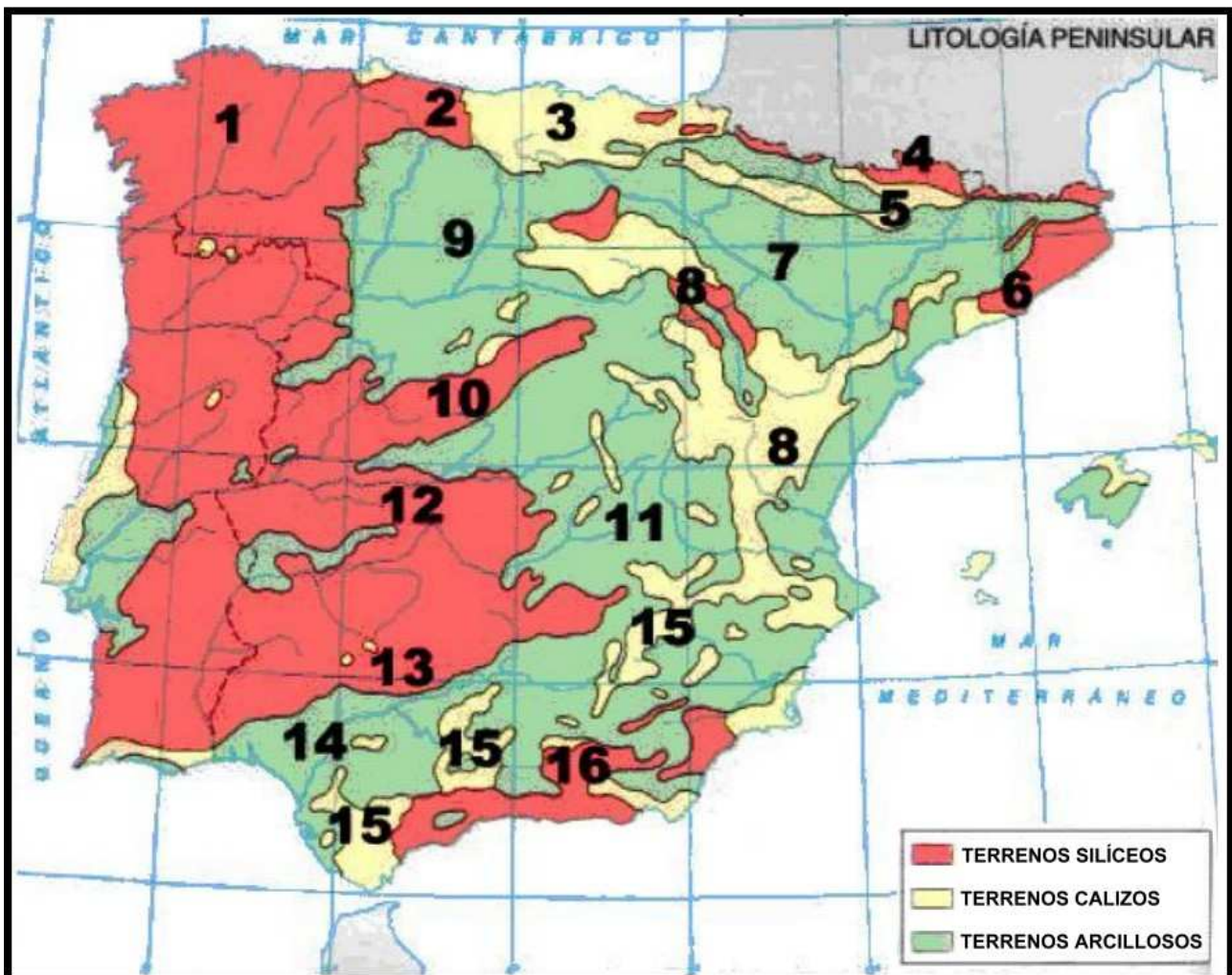


PRÁCTICA nº 04

PREGUNTA 2 DEL EXAMEN DE 2005, 2006, 2007, 2009

El mapa muestra las unidades litológicas de la Península Ibérica. Tras su observación responda a las siguientes cuestiones:

- a) Enumere, por separado, con sus números y nombre: las unidades interiores de la Meseta; las periféricas de la Meseta; y las exteriores a la Meseta
- b) Qué Comunidades Autónomas tienen parte o todo su territorio asentado sobre la Iberia silíceica en el Oeste peninsular
- c) ¿Qué relación básica guarda cada una de estas tres Iberias con distintos usos y aprovechamientos del territorio?.



PRÁCTICA nº 05
PREGUNTA 2 DEL EXAMEN DE 2008

En la figura siguiente se representa un mapa con las regiones costeras españolas. Analícelo y conteste a las siguientes preguntas:

- a) Diga cuáles son los accidentes geográficos costeros señalados con sendas letras.
- b) Indique el nombre de cada una de las provincias costeras numeradas.
- c) Explique las características del tramo de relieve costero que se extiende en la provincia 4, y entre las provincias 8 y 9, así como la importancia turística y el nombre que recibe cada una de esas costas.



PRÁCTICA nº 06
PREGUNTA 2 DEL EXAMEN DE 2011 y 2012

La siguiente figura corresponde al mapa físico de España. Obsérvelo y conteste a las preguntas siguientes:

- a) Identifique, con la letra y el nombre correspondientes, los sistemas de relieve que aparecen señalados con letras mayúsculas de la **A** a la **E**. Diga cómo se llama la isla marcada con la letra **X**, cómo se llama la montaña principal que hay en ella, así como su composición rocosa .
- b) Identifique, con el número y el nombre correspondientes, los ríos que aparecen numerados del 1 al 5. En general, ¿qué ríos son más largos, los de la vertiente atlántica o los de la vertiente mediterránea? Explique las causas.
- c) De los sistemas de relieve señalados, diga, con letra y nombre, cuáles de ellos son: 1) interiores a la Meseta; 2) periféricos a la Meseta, y 3) exteriores a la Meseta.



PRÁCTICA nº 07
PREGUNTA 2 DEL EXAMEN DE 2012 y 2013

**El mapa muestra los dominios litológicos de España.
 Tras su observación responda a las siguientes cuestiones:**

1. Diga los nombres de las unidades de relieve numeradas ordenadamente y señale el dominio litológico más extendido en ellas. ¿Qué fenómeno geográfico reciente se ha producido en el dominio marcado con el número 6? (Hasta 1 punto).
2. Trazando una línea vertical por el centro de la Península, ¿qué Comunidades Autónomas al Oeste de esa línea tienen casi todo o una parte de su territorio asentado sobre el dominio litológico silíceo? (Hasta 1 punto).
3. ¿Qué relación básica guarda cada uno de estos dominios litológicos en la Península con los distintos usos agro-forestales del territorio? (Hasta 2 puntos).

(Valoración: hasta 4 puntos)

